



2025 **DUS** 2. Dönem Orijinal Sorular

Kazanan her **4** kişiden **3**'ü DUSDATA'dan

DUS DUS 2. Dönem
2024'te

İlk 10'da **9** kişi,
İlk 50'de **41** kişi,
İlk 100'de **82** kişi,
İlk 200'de **163** kişi,

İlk 300'de

245

DUS DUS 1. Dönem
2025'te

İlk 10'da **9** kişi,
İlk 50'de **41** kişi,
İlk 100'de **83** kişi,
İlk 200'de **168** kişi,

İlk 300'de

243

DUS DUS 2. Dönem
2025'te

İlk 10'da **10** kişi,
İlk 50'de **48** kişi,
İlk 100'de **88** kişi,
İlk 200'de **185** kişi,

İlk 300'de

262

kişi Dusdata ile kazandı...

www.dusdata.com

TÜM DUS SORULARI

Seçim sizin...



Seçenek
1

Tüm DUS (1+2) Soruları KİTAP




- 1 ▶ "Orijinal soru"
+
- 2 ▶ "Bu bilgiyi bir başka hoca nasıl sorardı?"
▶ "Bu soruyu soran hoca; bu mantıkla, bu konuda ne sormuş olabilir?"
▶ Toplam 7235 açıklamalı soru

▶ Satın almak için: www.klinisyen.com

Seçenek
2

Tüm DUS (1+2) Soruları KAMP



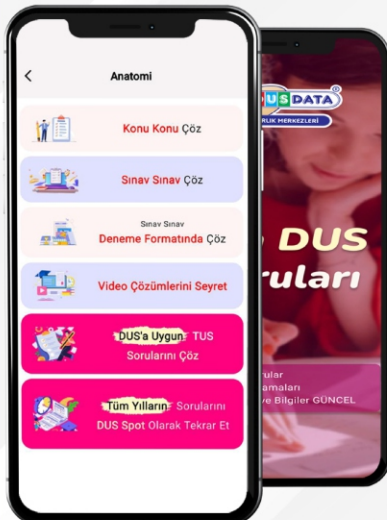
İster Mobil'de
İster Tablet'te
İster PC'de

- ▶ Orijinal çıkmış soru ile birlikte "Bu bilgiyi bir başka hoca nasıl sorardı?" ve "Bu soruyu soran hoca; bu mantıkla, bu konuda başka ne sormuş olabilir?" soruları
- ▶ 14 tam gün
- ▶ 7235 soru ile FUL TEKRAR
- ▶ Dersler kamp ortamında, analizler ve sınav taktikleriyle beraber, canlı çekildi

▶ Satın almak için: www.tusdataonline.com

Seçenek
3

Tüm DUS Soruları MOBİL



- ▶ Tüm yılların sorularını konu konu çöz
- ▶ Tüm yılların sorularını sınav sınav çöz
- ▶ Tüm yılların sorularını sınav sınav deneme formatında çöz
- ▶ Tüm yılların sorularını video çözümlerini seyret
- ▶ DUS'a uygun TUS sorularını çöz

▶ Satın almak için: www.tusdataonline.com

2025 DUS 2. DÖNEM TEMEL BİLİMLER TESTİ

1. Aşağıdakilerden hangisinin arteria maxillaris'in pars pterygopalatina'sından köken alması en az olasıdır?

- A) Arteria meningea media
- B) Arteria infraorbitalis
- C) Arteria alveolaris superior posterior
- D) Arteria palatina major
- E) Arteria sphenopalatina

2. Aşağıdaki arterlerden hangisinin dalları alt çene dişlerini besler?

- A) Arteria buccalis
- B) Arteria infraorbitalis
- C) Arteria facialis
- D) Arteria temporalis profunda
- E) Arteria maxillaris

3. Alt çenede ağrı ve şişlik şikâyetiyle başvuran hastanın muayenesinde alt çene 2. molar dişte apse olduğu belirleniyor.

Bu hastada aşağıdakilerden hangisinde öncelikli olarak büyüme beklenir?

- A) Nodi submandibulares
- B) Nodi submentales
- C) Nodi retropharyngeales
- D) Nodus juguloomohyoideus
- E) Nodus malaris

4. Nervus alveolaris inferior'un blokajı sırasında sinirin medialinde bulunan ligamentin kalsifiye olması nedeniyle işlem daha geç tamamlanıyor.

Bu hastada kalsifiye olan en olası ligament aşağıdakilerden hangisidir?

- A) Ligamentum laterale
- B) Ligamentum stylomandibulare
- C) Ligamentum sphenomandibulare
- D) Ligamentum mediale
- E) Ligamentum transversum

5. Otuz üç yaşındaki hasta burun kanatları hariç dorsum nasi ve apex nasi üzerindeki deriyi tariflediği bölgede his kaybı yakınmasıyla başvuruyor.

Bu hastada aşağıdaki sinirlerden hangisinin hasar görmüş olması en olasıdır?

- A) Nervus ethmoidalis anterior
- B) Nervus ethmoidalis posterior
- C) Nervus supratrochlearis
- D) Nervus frontalis
- E) Nervus infraorbitalis

6. Kırk iki yaşındaki erkek hasta çiğneme sırasında yüz kızarması ve terleme şikâyetleriyle başvuruyor. Öyküsünden 3 hafta önce yüz bölgesinin kesici-delici aletle yaralandığı öğreniliyor.

Bu hastadaki en olası kesi bölgesi aşağıdakilerden hangisidir?

- A) Submental
- B) Preauriküler
- C) Temporal
- D) Orbital
- E) Submandibular

7. Diş etinden alınan biyopsi örneği ışık mikroskobu ile incelendiğinde epitel dokusunun stratum lucidum tabakasını içermediği ve üst yüzeyinde piknotik çekirdek içeren hücreler barındırdığı görülüyor.

Bu epitel doku aşağıdakilerden hangisidir?

- A) Çok katlı yassı keratinize epitel
- B) Çok katlı prizmatik epitel
- C) Değişici epitel
- D) Çok katlı yassı parakeratinize epitel
- E) Yalancı çok katlı prizmatik epitel

8. Yirmi üç yaşındaki erkek hastanın çekilen dişinden histolojik bir preparat hazırlanıyor.

Bu preparatta aşağıdaki hücrelerden hangisinin görülmesi en az olasıdır?

- A) Odontoblastlar
- B) Ameloblastlar
- C) Fibroblastlar
- D) Kapiller endotel hücresi
- E) Sementoblastlar

Dentin ve dental pulpa ile ilgili aşağıdaki ifadelerden hangisi yanlıştır?

- A) Dentin, odontoblastların sitoplazmik uzantılarını barındıran, kemik matrisine benzer bir yapıdır.
- B) Odontoblastların hücre gövdeleri predentine komşu yerleşir.
- C) Dental pulpa yoğun kollajen demetleri içeren sıkı bağ dokusudur.
- D) Dental pulpanın bulunduğu boşluk koronal bölüm (pulpa boşluğu) ve radiküler bölüm (kök kanalı) olmak üzere ikiye ayrılır.
- E) Kök kanalının açıldığı apikal foramen gelişmiş bir dişte merkez dışı (ekzantrik) duruşlu ve gelişmekte olan dişinkine oranla daha küçüktür.



2025 DUS 2. Dönem

Kaynaklarımız BAŞARIMIZA

REFERANS

Şampiyonların DUS Notu	2. Dönem 2025 DUS	Toplamda soruya referans
	115	112
	108	97
	95	94



RapiDUS

Lütfen detaylıca inceleyiniz! Orijinal sorular ve net kanıtlar için;
www.dusdata.com

10. I. Submukoza
II. Dış kas
III. Mukoza
IV. Adventisya

Özofagusun torakal boşluk içerisinde yer alan parçasına ait histolojik tabakalarının lümenine en yakın tabakadan başlanarak sıralanışı aşağıdakilerden hangisidir?

- A) IV-III-I-II
B) IV-I-III-II
C) III-IV-I-II
D) I-III-II-IV
E) III-I-II-IV

11. Aşağıdakilerden hangisi tükürük bezinden protein sekresyonunun artmasına neden olur?

- A) cAMP
B) cGMP
C) IP₃
D) Diacilgliserol
E) Protein kinaz C

12. Aşağıdakilerden hangisi periferel dolaşımdan kalbe venöz dönüş üzerinde inhibe edici etki gösterir?

- A) İskelet kaslarının yürüme gibi aktiviteler esnasında ritmik kasılması
B) İspirasyonda torakal venöz basıncın düşmesi
C) İspirasyonda diyaframın aşağı-abdomene doğru hareketi
D) Kalbin ejeksiyon safhasında damar sistemine kan pompalaması
E) Sağ atrium basıncının yükselmesi

13. Aşağıdaki özelliklerden hangisi düz kasa özgüdür?

- A) Kontraktıl proteinlerden yapılmış olması
B) Hücre içi kalsiyum artışı
C) Dinlenim potansiyeli
D) Stres gevşeme
E) Miyozinin fosforlanması

14. I. Aldosteron reseptörleri sitoplazmadadır.
II. Oksitosin reseptörü hücre membranındadır.
III. Triiyodotironin (T₃) reseptörü hücre çekirdeğindedir.
IV. Epinefrin reseptörleri sitoplazmadadır.

Hormonların reseptörlerinin hücredeki yerleşimi ile ilgili yukarıdaki ifadelerden hangileri doğrudur?

- A) I, II, III ve IV
B) II ve IV
C) III ve IV
D) I, II ve III
E) II, III ve IV

15. Açlıkta mideden salgılanan, oreksijenik etkisi olan ve büyüme hormonu salgısını uyaran hormon aşağıdakilerden hangisidir?

- A) Guanilin
B) Ghrelin
C) Bombesin
D) Leptin
E) Oreksin

16. Atropin uygulaması sonrasında aşağıdakilerden hangisinde artış görülmesi en olasıdır?

- A) Pupil çapı
B) Gastrointestinal motilite
C) Tükürük sekresyonu
D) İnsülin sekresyonu
E) Miksiyon

17. I. Serin
II. Treonin
III. Aspartat
IV. Triptofan

Yukarıdaki aminoasitlerden hangileri insan için esansiyeldir?

- A) Yalnız III
B) I ve II
C) II ve IV
D) II ve III
E) III ve IV

18. İnsan vücudunda biyolojik aktivite açısından en güçlü D vitamini metaboliti aşağıdakilerden hangisidir?

- A) 25-hidroksikolekalsiferol
B) 25-hidroksiergokalsiferol
C) 24,25-dihidroksiergokalsiferol
D) 24,26-dihidroksikolekalsiferol
E) 1,25-dihidroksikolekalsiferol

19. Yağ asitlerinin katabolize edilmeden önce aktivasyonunu sağlayan enzim aşağıdakilerden hangisidir?

- A) Açıl-KoA dehidrogenaz
B) Süksinat tiyokinaz
C) Tiyolaz
D) Açıl-KoA sentetaz
E) Enoil-KoA hidrataz

20. Tükürükte yaygın olarak bulunan müsin ile ilgili olarak aşağıdakilerden hangisi yanlıştır?

- A) Oligosakkarit içerirler.
B) Pozitif yüke sahiptirler.
C) Epitelial hücreler üzerinde koruyucu bir tabaka oluşmasına yardım ederler.
D) Yapılarında sialik asit kalıntıları bulunur.
E) Proteolize dirençlidirler.

DUSDATA 2025 DUS 2. Dönem
DUS HAZIRLIK MERKEZLERİ

DUSDATA DERECELERİ

İlk 10'da 10 kişi DUSDATA ile kazandı

Türkiye 1. si
Dr. Mert Altuğ HARPUTCU
Temeil:72.342 Klinik:70.852
Sınavın Üst. Dış Hekim, Fakültesi (Kocaeli)
Fakülte derecesi değişti
DUSDATA Kaynakları ile kazandı

Türkiye 2. si
Dr. Yusuf Can KORBAMAZ
Temeil:70.500 Klinik:70.862
Sınavın Üst. Dış Hekim, Fakültesi (Kocaeli)
Fakülte derecesi değişti

Türkiye 2. si
Dr. Alaberk YILDIZ
Temeil:70.500 Klinik:70.877
Sınavın Üst. Dış Hekim, Fakültesi (Kocaeli)
Fakülte derecesi değişti

Türkiye 3. si
Dr. Y. Nerme ARSLAN
Temeil:71.179 Klinik:70.827
Sınavın Üst. Dış Hekim, Fakültesi (Kocaeli)
Fakülte derecesi değişti

Türkiye 4. si
Dr. Emre GÜMÜŞ
Temeil:70.899 Klinik:70.822
Sınavın Üst. Dış Hekim, Fakültesi (Kocaeli)
Fakülte derecesi değişti

Türkiye 5. si
Dr. Burcu KARA
Temeil:70.862 Klinik:70.844
Sınavın Üst. Dış Hekim, Fakültesi (Kocaeli)
Fakülte derecesi değişti

Türkiye 6. si
Dr. Kıyfa ERTEKİN
Temeil:70.899 Klinik:70.822
Sınavın Üst. Dış Hekim, Fakültesi (Kocaeli)
Fakülte derecesi değişti

Türkiye 7. si
Dr. Elif YAVUZ
Temeil:70.724 Klinik:70.822
Sınavın Üst. Dış Hekim, Fakültesi (Kocaeli)
Fakülte derecesi değişti

Türkiye 7. si
Dr. Elif YAVUZ
Temeil:70.724 Klinik:70.822
Sınavın Üst. Dış Hekim, Fakültesi (Kocaeli)
Fakülte derecesi değişti

Türkiye 8. si
Dr. Ayşe Nigar AICALI
Temeil:70.899 Klinik:70.822
Sınavın Üst. Dış Hekim, Fakültesi (Kocaeli)
Fakülte derecesi değişti

20 DUS BİRİNCİ

www.dusdata.com



2025 2.DÖNEM DUS'da

10 İlk 10'da **kişi**

Dusdata ile kazandı

6 tanesi
fakülte derecesi değil

2025 2.DÖNEM DUS'da

18 İlk 20'de **kişi**

Dusdata ile kazandı

14 tanesi
fakülte derecesi değil

2025 2.DÖNEM DUS'da

48 İlk 50'de **kişi**

Dusdata ile kazandı

43 tanesi
fakülte derecesi değil

2025 2.DÖNEM DUS'da

88 İlk 100'de **kişi**

Dusdata ile kazandı

82 tanesi
fakülte derecesi değil

“Ayinesi iştir kişinin, lafa bakılmaz”

21. Aşağıdaki enzimlerden hangisinin tükürükte bulunması en az olasıdır?
- A) Amilaz
B) Aminopeptidaz
C) Kallikrein
D) Karbonik anhidraz
E) Laktoperoksidaz
22. Aşağıdakilerden hangisi ön hipofizde sentezlenmez?
- A) β -endorfin
B) α -melanosit stimüle edici hormon
C) Vazopressin
D) Koryonik gonadotropin
E) Somatotropin
23. Aşağıdaki bakterilerden hangisinin oral mikrobiyotada bulunması en az olasıdır?
- A) *Streptococcus mitis*
B) *Actinomyces oris*
C) *Prevotella intermedia*
D) *Shigella flexneri*
E) *Fusobacterium nucleatum*
24. Aşağıdaki bakterilerden hangisi hücre duvarında bulunan mikolik asit içeriği ile diğerlerinden ayrılır?
- A) *Staphylococcus aureus*
B) *Mycobacterium tuberculosis*
C) *Enterococcus faecalis*
D) *Klebsiella pneumoniae*
E) *Mycoplasma pneumoniae*
25. Aşağıdaki ilaçlardan hangisinin tüberküloz hastalığının tedavisinde kullanılması en az uygundur?
- A) İzoniazid
B) Rifampin
C) Pirazinamid
D) Etambutol
E) Eritromisin
26. Gingivostomatitli bir hastanın diş tedavisini takiben elinde derin veziküler lezyonlar gelişen bir diş hekiminde aşağıdaki mikroorganizmalardan hangisinin bu tabloya yol açması en olasıdır?
- A) Varicella zoster virus
B) Parvovirus B19
C) Coxsackievirus A16
D) Herpes simplex virus
E) Epstein-Barr virus
27. Aşağıdakilerden hangisi bir imidazol grubu antifungaldir?
- A) Flukonazol
B) İsavukonazol
C) Ketokonazol
D) Vorikonazol
E) Posakonazol
28. Kronik bir inflamasyonda doku makrofajlarının epiteloid şekil aldığı saptanıyor. Bu tabloya yol açması en olası mikroorganizma aşağıdakilerden hangisidir?
- A) *Mycobacterium tuberculosis*
B) *Pseudomonas aeruginosa*
C) Sitomegalovirus
D) *Giardia lamblia*
E) *Pneumocystis jirovecii*
29. Aşağıdakilerden hangisi T hücre aracılı hastalıklardan biri değildir?
- A) Multipl skleroz
B) Psöriazis
C) Sistemik lupus eritematozus
D) İnflamatuvar bağırsak hastalığı
E) Romatoid artrit
30. Aşağıdakilerden hangisi hücrel adaptasyon tiplerinden biri değildir?
- A) Metaplazi
B) Displazi
C) Hiperplazi
D) Hipertrofi
E) Atrofi
31. Diş ağrısı nedeniyle kliniğe getirilen çocuk hastada klavikula hipoplazisi, anteriorda konulanmış kısa omuz başları, ince-uzun boyun ve brakisefal profil izleniyor. İntraoral muayenede sürme gecikmeleri ve panoramik radyografide çift sıralı diş dizisi saptanıyor. Bu olgu için en olası genetik hastalık aşağıdakilerden hangisidir?
- A) Osteitis deformans
B) Osteogenesis imperfekta
C) Peutz-Jeghers sendromu
D) Cherubism
E) Kleidokraniyal displazi
32. Glandüler odontojenik kist ile histopatolojik görünümü benzerlik gösteren ve ayırıcı tanısında yer alan tümör aşağıdakilerden hangisidir?
- A) Mukoepidermoid karsinom
B) Pleomorfik adenom
C) Odontojenik keratistik
D) Adenomatoid odontojenik tümör
E) Ameloblastoma



DUS 2025 2. Dönem DUSDATA Farkı ile

PUAN ARTTIRANLAR

Dt. Bilge DURMAZ

Önceki DUS Sınavı

T. P: 55.773
K. P: 56.707

PUAN ARTIŞI

11.799

2025 2. Dönem DUS

T. P: 67.572
K. P: 66.285

Detaylı bilgi için :www.dusdata.com

33. I. Metabolizma her zaman ilaç molekülünün inaktivasyonu sonuclanır.
II. İlaç molekülü mikrozomal enzim indüksiyonuna neden oluyorsa ve ilacın kendisi de bu enzimle metabolize oluyorsa ilacın metabolizması azalabilir.
III. İlaç molekülü bir mikrozomal enzimin inhibisyonuna neden oluyorsa bu enzimle metabolize edilen moleküllerin farmakolojik etkileri artabilir.

İlaç metabolizmasıyla ilgili yukarıdaki ifadelerden hangileri doğrudur?

- A) Yalnız I
B) Yalnız II
C) II ve III
D) Yalnız III
E) I, II ve III

Bu sorunun orijinal hali hatalı olması nedeniyle modifiye edilmiştir...

34. Aşağıdaki ilaçlardan hangisinin birlikte kullanımının oral antikoagülan ilaçların etkisini azaltması **en olasıdır?**

- A) Amiodaron
B) Kinidin
C) Simvastatin
D) Kolestiramin
E) Propafenon

35. Aşağıdaki ilaçlardan hangisi dihidrofolik asitten tetrahidrofolik asit sentezini katalize eden dihidrofolat redüktaz enzimini **inhibe eder?**

- A) Trimetoprim
B) Dapson
C) Sulfadiazin
D) Mafenid
E) Metronidazol

36. Aşağıdakilerden hangisi asetilkolinin presinaptik kolinerjik nöronda, vezikül içine alınmasını **bloke eder?**

- A) Suksamethonyum
B) Tüboküarin
C) Vezamikol
D) Hemikolinium
E) Neostigmin

37. Aşağıdaki yapılardan hangisi memeli hücrelerinin zarında **yer almaz?**

- A) Fosfatidilkolin
B) Fosfatidilserin
C) Glikoprotein
D) Lipopolisakarit
E) Sfingomiyelin

38. Aşağıdakilerden hangisi integral zar proteinlerinin ortak bir özelliğidir?

- A) Membran içinde yer alan kısmı her zaman alfa-heliks yapısındadır.
B) Çift tabakalı zarın iç kısmı ile etkileşen integral zarın yapısında yer alan aminoasitler hidrofilik özelliklidir.
C) Tüm integral zar proteinleri, zarı bir kez geçer.
D) İntegral zar proteinlerinin yapısında disülfid bağları bulunuyorsa, bu bağlar çift tabakalı zarın sitoplazmaya bakan kısmında yer alır.
E) İntegral zar proteinlerine karbonhidrat molekülleri bağlandıysa, bu moleküller çift tabakalı zarın hücre dışına bakan kısmında yer alır.

39. Prokaryotik hücrelerde DNA replikasyonunun başlaması için gerekli olan RNA primerleri aşağıdaki enzimlerden hangisi tarafından sentezlenir?

- A) DNA polimeraz I
B) Telomeraz
C) DNA primaz
D) Topoizomeraz
E) DNA polimeraz gama

40. Aşağıdakilerden hangisi DNA tamir yolağında sitozin deaminasyonunda rol almaktadır?

- A) Adenin DNA glikosilaz
B) Urasil DNA glikosilaz
C) Sitozin DNA glikosilaz
D) Timin DNA glikosilaz
E) Guanin DNA glikosilaz



Kazanan Her 4 kişiden 3'ü DUSDATA'dan

1. Dönem 2025 DUS'ta

1. Dönem 2025 DUS'ta

İlk 10'da 9 kişi
İlk 50'de 41 kişi
İlk 100'de 82 kişi
İlk 200'da 163 kişi

İlk 300'de

243

Kişi DUSDATA ile kazandı..

2. Dönem 2025 DUS'ta

İlk 10'da 10 kişi
İlk 50'de 48 kişi
İlk 100'de 88 kişi
İlk 200'da 185 kişi

İlk 300'de

262

Kişi DUSDATA ile kazandı..

2025 DUS 2. DÖNEM

KLİNİK BİLİMLER TESTİ

1. I. CPP-ACP (Kazein fosfopeptid-Amorf kalsiyum fosfat)
II. CPP-ACFP (Kazein fosfopeptid-Amorf kalsiyum floridfosfat)
III. TCP (Trikalsiyum fosfat)

Yukarıdaki ajanlardan hangileri diş sert dokularının remineralizasyonunu sağlamak amacıyla kullanılır?

- A) I ve II
B) I ve III
C) Yalnız I
D) Yalnız II
E) I, II ve III

2. Restorasyonların özellikle gingival marjinlerinde görülen çürük türü aşağıdakilerden hangisidir?

- A) Rekürrent çürük
B) Rezidüel çürük
C) Primer çürük
D) Mine çürüğü
E) Dentin çürüğü

3. I. Yüksek viskoziteli rezinle çürük lezyon gövdesindeki boşlukların doldurulması hedeflenir.
II. İlk aşamada lezyonun yüzeyi hidroklorik asitle pürüzlendirilir.
III. Kullanılan infiltrantın radyoopasitesi yüksektir.
IV. Bu teknikte çürük lezyonunun ilerlemesi durdurulur.

Rezin infiltrasyon tekniği ile ilgili yukarıdaki ifadelerden hangileri doğrudur?

- A) I, II ve IV
B) II ve IV
C) II ve III
D) II, III ve IV
E) I, II, III ve IV

4. Kalsiyum hidroksit ile ilgili aşağıdaki ifadelerden hangisi yanlıştır?

- A) Direkt ve indirekt pulpa kaplama tedavisinde kullanılmaktadır.
B) Alkali pH sayesinde antimikrobiyal etki gösterir.
C) Pulpa kaplama tedavisinde kimyasal ve ışıkla polimerize olan iki formu da kullanılabilir.
D) Kimyasal polimerize olan pat şeklindeki formları daha yüksek elastik modülüne sahiptir.
E) Tersiyer dentin yapımını uyarak pulpayı termomekanik ve bakteriyel uyarılardan korur.

5. I. Homojen ve optimum sertleşme gerçekleşmesi için siman tozu likite doğru tek bir parça halinde çekilerek hızlı bir şekilde karıştırılmalıdır.
II. Çalışma ve sertleşme süresini uzatmak için siman camı soğuk olmalıdır.
III. Siman likitinin kapağının sürekli açık kalması simanın sertleşme ve fiziksel özelliklerini etkilemez.
IV. Toz/kilit oranı simanın sertleşme ve fiziksel özelliklerini etkiler.

Çinko fosfat simanın çalışma ve sertleşme süresiyle ilgili yukarıdaki ifadelerden hangileri yanlıştır?

- A) III ve IV
B) I, III ve IV
C) I ve III
D) I ve II
E) I, II ve III

6. Polimerizasyon büzülmesini azaltmak için kompozitlerle birlikte kullanılabilen organik modifiye seramik yapı aşağıdakilerden hangisidir?

- A) Siloran
B) Giomer
C) Silan
D) Ormocer
E) Zirconomer

İlk 10'da
10
kişi

DUS DATA
DUS HAZIRLIK MERKEZLERİ

20 DUS
18
BİRİNCİ

2025 DUS 2. DÖNEM

İllere ve fakültelere bakın!

Adı Soyadı	Fakültesi	Sıralama	Fakülte Derecesi
Dt. Mert Altuğ HARPUTCU	Konya Selçuk Diş (DUSDATA kaynakları ile kazandı)	1	DEĞİL
Dt. Yusuf Can KORKMAZ	Çukurova Diş (Adana DUSDATA)	2	DEĞİL
Dt. Ataberk YILDIZ	İstanbul Diş (İstanbul DUSDATA)	2	DERECE
Dt. Yaren Merve ARSLAN	Marmara Diş (İstanbul DUSDATA)	3	DEĞİL
Dt. Emre GÖKMEN	Lokman Hekim Diş (Ankara DUSDATA)	4	DERECE
Dt. Burcu KARA	İstanbul Medipol Diş (İstanbul DUSDATA)	5	DEĞİL
Dt. Kayra ERTEKİN	Başkent Diş (Ankara DUSDATA)	6	DERECE
Dt. Seher ÇORUH	Adıyaman Diş (Adıyaman DUSDATA)	7	DEĞİL
Dt. Elif YAYLAMAZ	İnönü Diş (Malatya DUSDATA)	7	DEĞİL
Dt. Ayşegül Nigar AKÇAL	Hacettepe Diş (Ankara DUSDATA)	8	DERECE

Bu tablo; okul derecesi farketmeksizin herkese ama herkese **UMUT** vermiyor mu?

7. Aşağıdaki lazer tiplerinden hangisinin kavite preparasyonunda kullanımı en uygundur?

- A) GaAs lazer
- B) HeNe lazer
- C) Er:YAG lazer
- D) Nd:YAG lazer
- E) KTP lazer

8. I. Maksiller molarların palatinal yüzeyinin oklüzal 2/3'üne uzanan pitler
II. Premolar ve molar dişlerin oklüzal yüzeyleri
III. İnsizal kenar ve tüberkül tepeleri
IV. Maksiller anterior dişlerin palatinal yüzeyleri hariç bütün dişlerin bukkal ve lingual yüzeylerinin gingival 1/3'ünü içeren kaviteler

Yukarıdakilerden hangileri Sınıf I kavite sınıflamasına girer?

- A) I ve III
- B) Yalnız II
- C) II, III ve IV
- D) I, II ve IV
- E) I ve II

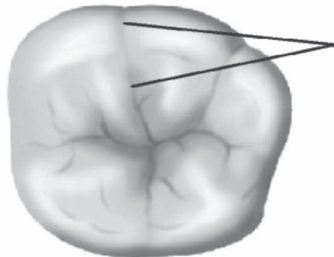
9. Düşük konsantrasyonda asit ve aşındırıcı kullanılarak dişlerdeki yüzeyel beyaz-kahverengi renklenmelerin giderilmesi işlemine ne ad verilir?

- A) Walking bleaching
- B) Makroabrazyon
- C) Mikroabrazyon
- D) Vital bleaching
- E) Home bleaching

10. Diş mine matriksinde en fazla miktarda bulunan protein aşağıdakilerden hangisidir?

- A) Amelogenin
- B) Ameloblastin
- C) Enamelin
- D) Amelotin
- E) Tuftelin

11.



Yukarıdaki şekilde gösterilen morfolojik oluşum aşağıdakilerden hangisidir?

- A) Mezial pit
- B) Mezial marjinal sırt
- C) Meziobukkal gelişim oluşu
- D) Distobukkal gelişim oluşu
- E) Meziobukkal tüberkül sırtı

12. Otuz dört yaşındaki erkek hasta diş eksikliği şikâyetiyle başvuruyor. Sabit bölümlü protez yapılması planlanan hastada tedavinin ölçü aşamasında lateks eldiven kullanıyor. Lateks eldivenin ölçü materyalinin polimerizasyonunu olumsuz etkilediği, vinil eldiven kullanılarak ölçü alındığında ise bu sorunun ortadan kalktığı görülüyor.

Bu hasta için, ölçü aşamasında kullanılan ölçü materyalinin aşağıdakilerden hangisi olması en olasıdır?

- A) Aljinat
- B) Polieter
- C) Polisülfid
- D) Kondensasyon silikon
- E) İlave tip silikon

13. Üst sağ 1. molar dişine lityum disilikat tam seramik onlay restorasyon yaptırmak için başvuran hastanın diş preparasyonu tamamlanarak ölçü aşamasına geliniyor. Öyküsünden hastanın daha önceki ölçü alma aşamasında ileri derecede mide bulantısı yaşadığı öğreniliyor.

Bu hastanın yaşadığı sorunun çözümü için en uygun yaklaşım aşağıdakilerden hangisidir?

- A) Standart metal ölçü kaşığı yerine kişisel ölçü kaşığı kullanmak
- B) Konvansiyonel ölçü yerine dijital intraoral ölçü almak
- C) İntraoral boyutlara uygun olarak seçilen standart metal ölçü kaşığının bir küçük boyunu kullanmak
- D) Ölçü alımında silikon ölçü maddesi yerine geri dönüşümsüz hidrokolloid ölçü maddesi kullanmak
- E) Üst standart metal ölçü kaşığı yerine aynı boydaki alt ölçü kaşığı kullanmak

14. I. Oklüzyon
II. Marjinler
III. Proksimal kontaklar

Yukarıda verilen kronların ağızda değerlendirilme/uyumlanma aşamaları aşağıdakilerin hangisinde doğru sıralamayla verilmiştir?

- A) I-II-III
- B) I-III-II
- C) III-II-I
- D) III-I-II
- E) II-III-I

15. Rezin bağlantılı diş destekli sabit protezlerle ilgili aşağıdaki ifadelerden hangisi yanlıştır?

- A) Tek diş ya da iki kesici diş eksikliğinde rezin bağlantılı diş destekli sabit protezler uygulanabilir.
- B) Rezin bağlantılı diş destekli sabit protez yapılabilmesi için uygulanacak gövdenin mezial ve distalinde dayanak diş bulunması gerekebilir.
- C) Kesici veya premolar bölgede diş eksikliğinde rezin bağlantılı diş destekli sabit protezler tercih edilebilir.
- D) Rezin bağlantılı diş destekli sabit protez planlamasında dayanak dişlerde mobilite olmamalıdır.
- E) Derin overbite gözlenen kesici dişlerde rezin bağlantılı diş destekli protez uygulanabilir.

16. Sabit bölümlü protezlerin biyomekanik prensipleri göz önüne alındığında, tüm şartlar eşit ve ideal kabul edildiğinde, oklüzal yükler altında geleneksel bir metal destekli porselen köprü gövdesi üzerinde meydana gelen defleksiyon (bükülme) miktarı ile ilgili aşağıdaki ifadelerden hangisi doğrudur?

- A) Gövdenin uzunluğunun küpü ile doğru, gövdenin oklüzogingival boyutunun küpü ile ters orantılıdır.
- B) Gövdenin uzunluğunun karesi ile ters, gövdenin oklüzogingival boyutunun küpü ile doğru orantılıdır.
- C) Destek diş sayısının karesi ile ters, gövdenin uzunluğunun karesi ile doğru orantılıdır.
- D) Destek diş sayısının küpü ile doğru, oklüzogingival boyutunun küpü ile ters orantılıdır.
- E) Destek dişlerin kron-kök oranlarının toplamının karesi ile doğru, gövdenin uzunluğunun karesi ile ters orantılıdır.

17. Yetmiş dört yaşındaki erkek hasta, 9 yıldır kullandığı alt-üst tam protezde tutuculuk ve stabilite kaybı şikâyetiyle protezin yenilenmesi için başvuruyor. Hastanın ağız içi muayenesinde alt protez kenarına denk gelen vestibül sulkusta hareketli ve fibröz yumuşak doku katlantıları olduğu fark ediliyor.

Bu hasta için en olası tanı aşağıdakilerden hangisidir?

- A) Epulis fissuratum
- B) Yanan ağız sendromu
- C) Angüler şelitis
- D) Fibröz kret
- E) Papiller hiperplazi

18. Aşağıdakilerden hangisi implant destekli sabit protez uygulamalarında dikkat edilmesi gereken oklüzal uyumlama prensiplerine aykırıdır?

- A) Oklüzal tabla labiolingual yönde daraltılmalıdır.
- B) İmplant destekli sabit restorasyona gelecek lateral kuvvetler azaltılmalıdır.
- C) Gövde sayısı az olmalıdır.
- D) Oklüzal kuvvetler mümkün olduğunca implant uzun aksına vertikal iletilmelidir.
- E) İmplantları splintlemekten kaçınılmalıdır.

- 19. I. Kas gevşetici olarak kullanılan splintlerde posterior bölge düz hazırlanmalıdır.
- II. Dişsiz boşlukları olan vakalarda splint daha çok diş eksikliğinin olduğu çeneye yapılarak oklüzal dengenin artırılması sağlanabilir.
- III. Oklüzal splint dikey boyutu artırır.

Oklüzal splint uygulamaları ile ilgili yukarıdaki ifadelerden hangileri doğrudur?

- A) Yalnız I
- B) Yalnız III
- C) I ve II
- D) I, II ve III
- E) II ve III

20. Aşağıdakilerden hangisi dişleri mevcut olan bir bireyde, diş rehberliğindeki dinamik hareketler sırasında ideal ve fonksiyonel bir oklüzyon için gerekli olan kriterlerden biridir?

- A) Mandibulanın lateral hareketleri sırasında çalışan tarafta diş teması olmamalı, çalışmayan tarafta ise diş rehberliğinde eşit ve dengeli temaslar olmalıdır.
- B) Mandibulanın protrüziv hareketleri sırasında anterior dişlerde temas olmalı, posterior dişlerde ise herhangi bir temas olmamalıdır.
- C) Hastanın ağızı kapalı ve dişler maksimum oklüzal temasta iken anterior dişlerde eşit ve dengeli oklüzal temas olmalı, posterior dişlerde ise herhangi bir temas olmamalıdır.
- D) Mandibulanın lateral hareketleri sırasında çalışan tarafta alt ve üst molar dişlerin bukkal ve lingual tüberkülleri temasta olmalı, çalışmayan tarafta ise üst molar dişlerin lingual tüberkülleri ile alt molar dişlerin bukkal tüberkülleri temasta olmalıdır.
- E) Mandibulanın protrüziv hareketleri sırasında kondiller glenoid fossada en superoanterior pozisyonda iken, disk artiküler eminensin posterior tarafında konumlanmalıdır.

- 21. I. Ortopantomograf
- II. Submentoverteks radyografi
- III. Ultrasonografi
- IV. Manyetik rezonans görüntüleme

Temporomandibular eklem bozukluğu olan bir bireyde eklem diskinin konumunun görüntülenmesi için tercih edilebilecek en uygun iki görüntüleme yöntemi aşağıdakilerin hangisinde birlikte verilmiştir?

- A) III ve IV
- B) I ve IV
- C) I ve III
- D) II ve III
- E) I ve II

22. Bilateral sagittal split ramus ve LeFort I osteotomisi esnasında meydana gelen kanamaların aşağıdaki vasküler yapıların hangisinden kaynaklanmış olması en az olasıdır?

- A) İnternal maksiller arter
- B) Pterigoid ven pleksusu
- C) Posterior superior alveolar arter
- D) Superfisiyal temporal arter
- E) Fasiyal arter

Türkiye 1.miz

DUS DATA
DUS HAZIRLIK MERKEZLERİ

Dt. Mert Altuğ HARPUTCU
Temel Puanı: 72.342
Klinik Puanı: 70.852

2025 DUS 2.DÖNEM

Temel ve Klinik Bilimler

ERZURUM İL BİRİNCİLERİMİZ

Türkiye 33.'sü

Türkiye 34.'sü

Dt. Muhammed F. EVREN
Temel Birincisi
Temel Puanı: 69.417
Klinik Puanı: 68.293

Dt. Nuh GÜNEŞ
Klinik Birincisi
Temel Puanı: 69.401
Klinik Puanı: 68.725

www.dusdata.com

BÜYÜK BAŞARI
9



2025

DUS 2.DÖNEM'de

BAŞARI 1

TÜRKİYE
BİRİNCİMİZ



Dt. Mert Altuğ HARPUTCU

BAŞARI 2

2025
2.DÖNEM DUS'DA

İlk 10'da
10 kişi

DUSDATA ile kazandı

6 Tanesi

Fakülte derecesi değil

BAŞARI 3

DUS
Kursu Yaptığımız

38 İlden
29

İl Birincisi

DUSDATA'dan

BAŞARI 4

2025
2.DÖNEM DUS'DA

İlk 100'de
88 kişi

DUSDATA ile kazandı

82 Tanesi

Fakülte derecesi değil

BAŞARI 5



29
İL BİRİNCİSİ
DUSDATA ile kazandı

BAŞARI 6

2025
2.DÖNEM DUS'DA
İlk 100'deki

47

kursiyerimiz

3 Büyük İlde değil

BAŞARI 7

2025
2.DÖNEM DUS'DA
İlk 100'deki

82

kursiyerimiz

Fakülte derecesi değil

BAŞARI 8

DERS
NOTLARIMIZ
Toplamda

120
Soruda

115

Referans verdi

BAŞARI 9

20 DUS
18 BİRİNCİ



23. Aşağıdaki ilaçlardan hangisi acil durumlarda narkotik antagonist olarak kullanılır?

- A) Epinefrin
B) Nalokson
C) Difenhidramin
D) Nitrogliserin
E) Atropin

24. Sistemik olarak sağlıklı olan 35 yaşındaki erkek hasta trafik kazası sonucu ağız, diş ve çene cerrahisi kliniğine getiriliyor. Fizik muayenede üst çenenin ileri-geri, sağa-sola ve yukarı-aşağı hareket ettiği gözlemleniyor. Bilgisayarlı tomografi incelemesinde maksillanın kafa kaidesinden, nazal septumdan ve zigomatik kemikten ayrıldığı görülüyor. Bilateral olarak apertura piriformisten lateral nazal duvara, oradan da pterigomaksiller fissüre kadar olan bir kırık hattı izleniyor.

Bu hastadaki en olası kırık tipi aşağıdakilerden hangisidir?

- A) Blow-out kırığı
B) LeFort II
C) LeFort III
D) Alveolar kırık
E) LeFort I

25. • İnsizyon alt dudak mukozasında yapılı ve alt dudaktan geniş bir flep kaldırılır.
• Supraperiostal diseksiyon ile vestibül derinleştirilir.
• Mukozal flep yeni oluşturulan vestibül derinliğinde periosta dikilir.
• Alt dudaktaki donör saha sekonder epitelizeasyon ile iyileşmeye bırakılır.

Yukarıda tarif edilen vestibüloplasti tekniği hangisidir?

- A) Submukozal vestibüloplasti
B) Clark vestibüloplastisi
C) Kazanjian vestibüloplastisi
D) Edlan tipi vestibüloplasti
E) Greft ile uygulanan vestibüloplasti

26. Sistemik olarak sağlıklı olan 29 yaşındaki erkek hasta alt çene ön bölgede şişlik şikâyetiyle başvuruyor. Klinik muayenede kesici dişlerin bukkal ve lingual alanında ağrısız ekspansiyon ve alt çenede profil değişimi göze çarpıyor. Radyolojik muayenede alt çene kesici dişleri tamamen içine alan ve alt kortikal tabakaya ulaşan multiloküler iyi sınırlı radyolüsent lezyon tespit ediliyor. İnsizyonel biyopsi sonucu mikroskopik incelemede ovoid ve içi şekilli mezenşimal stromal hücre proliferasyonu zemininde çok sayıda osteoklast benzeri dev hücreler gözleniyor.

Histolojik özelliği hiperparatiroidizme sekonder görülen Brown tümörle benzer olan bu patolojiye yönelik olarak aşağıdaki tedavi yöntemlerinden hangisi uygulanamaz?

- A) Subkutan kalsitonin enjeksiyonu
B) Segmental rezeksiyon
C) İntralezyonel steroid enjeksiyonu
D) Marsüpyalizasyon
E) Subkutan alfa-interferon enjeksiyonu

27. Aşağıdaki tümörlerden hangisi epitelyal kökenli değildir?

- A) Ameloblastoma
B) Odontoma
C) Adenomatoid odontojenik tümör
D) Skuamöz odontojenik tümör
E) Kalsifiye epitelyal odontojenik tümör

28. Ağızda da belirtileri görülebilen, şankr, mukozal yamalar ve gomlarla karakterize evreleri olan hastalığın en olası etkeni aşağıdakilerden hangisidir?

- A) Herpes simpleks virus
B) Neisseria gonorrhoeae
C) Treponema pallidum
D) Mycobacterium tuberculosis
E) Kingella kingae

29. Aşağıdaki sendromların hangisinde mandibular prognatizm görülmesi en az olasıdır?

- A) Bazal cell nevus sendromu
B) Marfan sendromu
C) Osteogenezis imperfekta
D) Down sendromu
E) Pierre Robin sendromu

30. Aşağıdaki patolojilerden hangisinin boynun lateralinde yer alması diğerlerine göre daha tipiktir?

- A) Ranula
B) Brankiyal yarık kisti
C) Tiroglossal kanal kisti
D) Epidermoid kist
E) Median mandibular kist

DUSDATA
DUS HAZIRLIK MERKEZLERİ

2025 DUS 2. Dönem
DUSDATA DERECELERİ

18 BİRİNCİ

İlk 10'da 10 kişi, DUSDATA ile kazandı

1

Dt. Mert Altuğ HARPUTCU
Temel: 72.342 Klinik 70.852
Seliçuk Üniversitesi Diş Hekimliği Fakültesi (Mezun)

Fakülte Derecesi Değişildi
DUSDATA Kaynaklarıyla Kazandı

31. Klinik muayenesinde dar ve yüksek damakla birlikte damak yarığı olan 12 yaşındaki erkek hastanın lateral kafa grafisinde dövülmüş metal görüntüsüyle birlikte maksiller hipoplazi ve brakisefali izleniyor. Oküler proptozisle birlikte görme bozukluğu olan hastanın aynı zamanda işitme kaybı da olduğu öğreniliyor.

Bu hasta için en olası tanı aşağıdakilerden hangisidir?

- A) Crouzon sendromu
- B) Treacher Collins sendromu
- C) Kleidokraniyal displazi
- D) Maffucci sendromu
- E) Romberg sendromu

32. Aşağıdakilerden hangisinin eritema multiformenin etiyolojisinde rol oynaması en az olasıdır?

- A) Herpes simpleks virus
- B) Antikonvülsan ilaçlar
- C) Mikoplazma enfeksiyonu
- D) Human papillomavirus
- E) Non-steroidal antiinflamatuar ilaçlar

33. Maksillofasiyal bölgenin değerlendirilmesinde kullanılan aşağıdaki görüntüleme yöntemlerinden hangisi iyonize radyasyon içermez?

- A) Konik ışıklı bilgisayarlı tomografi
- B) Sefalometrik görüntüleme
- C) Pozitron emisyon tomografisi
- D) Manyetik rezonans görüntüleme
- E) Panoramik görüntüleme

34. Orofasiyal bölgede genellikle 6 yaş altında çocuklarda görülen, tendonları, ligamentleri ve çizgili kasları etkileyen, otozomal dominant kalıtsal geçiş paternine sahip, mandibular kondilde kas atışman bölgesinde osseöz malformasyona neden olabilen ve hastalığın ileri evrelerinde "taşlaşmış insan" görünümüyle karakterize en olası bozukluk aşağıdakilerden hangisidir?

- A) Mönckeberg medial kalsinozis
- B) Progresif miyozitis ossifikans
- C) Osteoma kutis
- D) Flebolit
- E) Tritiseöz kırıkdam kalsifikasyonu

35. Aşağıdakilerden hangisinin temporomandibular eklemden osteoartritik değişkenliğin bulgularından biri olması en az olasıdır?

- A) Subkondral kist
- B) Kemik yapılarında erozyon
- C) Hipermobilité
- D) Krepitasyon
- E) Eklem aralığında daralma

36. Paroksizmal ağrı nedeniyle başvuran 55 yaşındaki kadın hastanın öyküsünden hipotansiyon ve bradikardisi olduğu ve bunlara bağlı senkop öykülerinin bulunduğu öğreniliyor. Ağrının devamlı olmadığı, özellikle konuşma ve yutkunmayla birlikte arttığı öğreniliyor. Klinik muayenesinde; dil kökü, dış kulak yolu ve retromolar bölgede palpasyonla tetiklenen ağrılı yanıt alınıyor. Retromolar pedin posterioruna uygulanan lokal anestezi sonrası ise ağrının kaybolduğu belirtiliyor.

Bu hasta için en olası tanı aşağıdakilerden hangisidir?

- A) Postherpetik trigeminal nevralsi
- B) Glossofaringeal nevralsi
- C) Nervus intermedius (genikülat) nevralsi
- D) Oksipital nevralsi
- E) Yanan ağız sendromu

37. I. Fokal spot boyutunun azalması
II. Obje-film mesafesinin artması
III. Obje-ışın kaynağı mesafesinin artması

Yukarıdakilerden hangileri penumbanın azalması ve görüntü sınırlarında keskinliğin artmasına neden olur?

- A) Yalnız I
- B) I ve II
- C) I, II ve III
- D) II ve III
- E) I ve III



2025 DUS 2.DÖNEM
Fakülte Derecesi Değildi
DUSDATA ile
Türkiye 2.'si oldu!



Dt.
Yusuf Can KORKMAZ

Temel: 71,695 Klinik: 70,642
Adana Çukurova Üniversitesi Diş Hekimliği Fakültesi

www.dusdata.com

38. Periodontal aralığın radyografik görüntüsüyle ilgili aşağıdaki ifadelerden hangisi **yanlıştır**?

- A) Antagonisti olmayan dişlerde periodontal aralıkta daralma izlenir.
- B) Dişlerin morfolojik özellikleri, radyografda çift periodontal aralık görüntüsüne neden olabilir.
- C) Sağlıklı bir dişte genellikle en dar izlendiği bölge alveolar kret bölgesidir.
- D) Bir bireyin farklı dişlerinde periodontal aralık farklı genişlikte izlenebilir.
- E) Gömülü dişlerin çevresindeki periodontal aralık daha dar olarak izlenir.

39. Panoramik radyografda gülen yüz görünümüne neden olan pozisyonlama hatasının **en olası** nedeni aşağıdakilerden hangisidir?

- A) Hastanın başını yukarı kaldırması
- B) Hastanın başını öne eğmesi
- C) Hastanın başının geride konumlanması
- D) Hastanın başını sağa çevirmesi
- E) Hastanın başının önde konumlanması

40. Aşağıdakilerden hangisi diğerlerine göre **daha düşük** radyasyon duyarlılığına sahiptir?

- A) Kemik iliği
- B) Testis
- C) Nöronlar
- D) Lenfoid organlar
- E) Bağırsaklar

41. Diş eti ve peri-implant mukoza karşılaştırmalı olarak değerlendirildiğinde, aşağıdaki ifadelerden hangisi **yanlıştır**?

- A) Her ikisi de en koronalde epitel dokusu ve altında onu destekleyen bir bağ dokusundan oluşmaktadır.
- B) Her ikisinde de bağlantı epiteli, yüzeye (kök yüzeyi/implant) hemidesmozomlar aracılığıyla tutunmaktadır.
- C) Dental implant çevresi biyolojik genişlik, diş çevresine göre daha fazladır.
- D) Peri-implant mukozadaki damarlanma, diş etine oranla daha azdır.
- E) Diş çevresinde supra-krestal bağ dokusunun kollajen fibril miktarı, peri-implant mukoza bağ dokusundan daha fazladır.

42. Periodontal ligament hücrelerinin periodontal rejenerasyon sürecindeki görevleri ile ilgili aşağıdaki ifadelerden hangisi **yanlıştır**?

- A) Periodontal ataçmanda yer alan Sharpey liflerinin sentezinden periodontal ligament hücreleri sorumludur.
- B) Periodontal ligament hücreleri sementoblastlara farklılaşarak kök yüzeyinde yeni sement oluşumunu sağlayabilir.
- C) Periodonsiyumda; farklılaşmamış mezenkimal hücre popülasyonu sadece periodontal ligament içinde bulunur.
- D) Yara iyileşme sürecinde periodontal ligament hücrelerinin kök yüzeyinde repopüle olması ankiloz ve kök rezorpsiyonunu engeller.
- E) Osteoprotegerin ve receptor activator of nuclear factor- κ B ligand (RANKL) üreterek kemik remodeling sürecinde düzenleyici rol oynarlar.

43. Kalsiyum kanal blokörleri, antikonvülsanlar ve siklosporin A (CsA) kullanan hastalarda görülen diş eti büyümelerine ait klinik ve histopatolojik özellikler ile ilgili aşağıdaki ifadelerde hangisi **yanlıştır**?

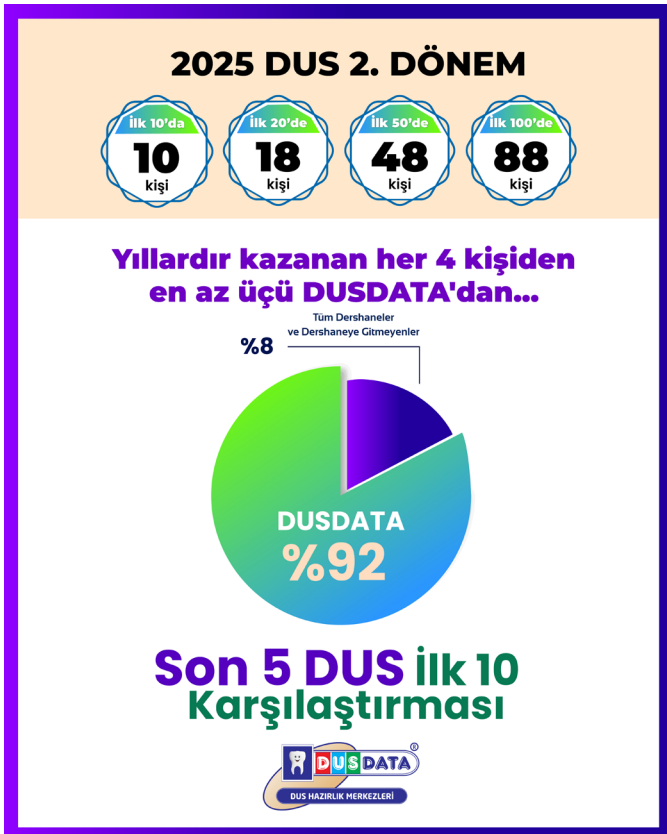
- A) İlaça bağlı büyümelerde bağ dokusuna ek olarak epitelde de yapısal ve patolojik değişimler izlenir.
- B) İlaça bağlı diş eti büyümeleri sıklıkla interproksimal alanda başlar.
- C) CsA'ya bağlı büyümelerde inflamatuvar değişimler diğer ilaca bağlı büyümelerden daha belirgindir.
- D) En yoğun fibrozis kalsiyum kanal blokörlerine bağlı büyümelerde gözlenir.
- E) Kalsiyum kanal blokörlerine bağlı büyümelerde periodontal destek kaybı mevcut olabilir.

44. Aşağıdaki durumlardan hangisi yaşlanmanın periodontal dokular üzerindeki etkilerinden biri **değildir**?

- A) Diş eti epitelinde keratinizasyonda azalma
- B) Bağ dokusunda kollajen miktarında artma
- C) Yapışık diş eti genişliğinde azalma
- D) Sement kalınlığında artma
- E) Dental plak akümülyasyonunda artma

45. Aşağıdakilerden hangisinin nektotizan periodontal hastalıkların şiddetli durumlarında sekel olarak görülebilmesi **en olasıdır**?

- A) Kavernoöz sinüs trombozu
- B) Gangrenöz stomatit
- C) Orbital selülit
- D) Maksiller sinüzit
- E) Proptozis



2025 DUS 2.DÖNEM



İlk 100'de ama fakülte derecesiyle* mezun olmayan kursiyerlerimizin sayısı

*Yeni mezun (ilk sınavı) veya intern olup ilk 3 içinde olanlar fakülte derecesi kabul edilmiştir.

2. Dönem 2025'de

82

kursiyerimiz
fakülte derecesi
değil

Adı Soyadı	Şube	Temel P	Temel S	Klinik P	Klinik S
MERT ALTUĞ HARPUTCU	DUS DATA KONYA	72,342	1	70,852	1
YUSUF CAN KORKMAZ	ADANA	71,695	2	70,642	3
YAREN MERVE ARSLAN	ONLINE	71,179	3	70,021	6
BURCU KARA	İSTANBUL	70,963	5	69,544	13
SEHER ÇORUH	ADİYAMAN	70,796	7	68,989	25
ELİF YAYLAMAZ	MALATYA	69,752	23	70,012	7
HAKAN ÜMİT KARAGÖZ	ONLINE	70,664	11	69,400	14
SAKİNE MALAK	KAYSERİ	70,017	21	69,801	11
ÖMER KARANFİLOĞLU	ADANA	70,543	14	66,325	179
YUNUS EREN	BURSA	70,083	20	69,290	15
ELİFNUR ÖZTÜRK	EDİRNE	70,381	16	68,823	31
NİHAT SELİM ASLAN	KAYSERİ	69,734	24	69,224	17
DUYGU ÜNLÜLER	İSTANBUL	69,103	42	69,191	18
SALİM AKIN	DENİZLİ	70,182	19	69,134	19
BAŞAK DEMİR	İSTANBUL	69,153	40	69,114	21
ANIL DAĞLI	SAKARYA	69,767	22	68,968	26
ZEYNEP ÜNAL	İSTANBUL	68,920	51	69,070	22
BERKE ERSOY	AYDIN	68,920	51	69,070	22
EZGİ DEDE	İZMİR	69,601	27	69,024	24
AHMET METE KÜRKCÜ	ANKARA	69,649	26	67,725	78
İREM YOSUNKAYA	ONLINE	68,223	88	68,937	27
ALP EMRE ŞAHİN	ANKARA	69,516	28	68,136	58
AYŞE FEYZA KOYAK	KÜTAHYA	69,484	29	68,392	50
M. MUSTAFA METE	BURSA	69,468	30	68,825	30
MERVE SELİN DEMİR	ONLINE	69,451	31	68,647	38
ESRA ÇELİK	İZMİR	69,431	32	66,638	148
M. FURKAN EVREN	ERZURUM	69,417	33	68,292	52
NUH GÜNEŞ	ERZURUM	69,401	34	68,725	34
HAFSA YANMAZ	ONLINE	68,256	85	68,682	35
FADİME BİLLUR AKBENİZ	İSTANBUL	69,335	36	68,625	39
ATAKAN AYDIN	ORDU	68,654	70	68,670	36
ABİDİN TEMEL	İSTANBUL	69,334	37	68,014	62
ILGAR GÜNDÜZ	EDİRNE	69,317	38	67,837	71
MUHAMMET ALTINHAN	İSTANBUL	68,754	60	68,515	40
MUHAMMED ÇAĞRI ATEŞ	HATAY	69,133	41	67,104	113
RUKİYE ÖZTÜRK	GAZİANTEP	69,101	43	67,970	65
ŞEYDA CEREN YETGÜN	TRABZON	68,007	99	68,760	43
BATUHAN TÜRK	KAHRAMANMARAŞ	68,007	99	68,760	43
ŞEYMA EMREN KARAKUŞ	ONLINE	68,007	99	68,760	43
ÇAĞATAY ÖZKAN	ANKARA	69,084	45	67,793	75
BEYZA YİĞİT	ONLINE	69,002	47	68,126	59

Adı Soyadı	Şube	Temel P	Temel S	Klinik P	Klinik S
TUBA İLKAYA	GAZİANTEP	68,687	66	68,415	47
EFSAL YANILMAZ	İSTANBUL	68,969	48	68,381	51
MERT TARIK ÇİFTÇİ	ANKARA	68,571	74	68,393	49
HAVVANUR KÖROĞLU	ONLINE	68,903	54	68,281	53
EMİNE ÖĞÜT	ANKARA	68,851	55	67,138	111
OSMAN TUTAN	DIYARBAKIR	67,641	127	68,217	55
İLGİN TEZCAN	İSTANBUL	68,834	56	66,961	124
YASİN ACAR	ONLINE	68,039	95	68,205	56
EGE ENGİN DENİZ	ANKARA	68,819	57	68,004	63
SİNEM UĞUR	İSTANBUL	68,801	59	67,216	108
MEHMET EMİN YILMAZ	ANTALYA	67,458	140	68,095	60
BORA FIRTINA	İSTANBUL	68,753	61	67,904	68
FİRDEVS ALEYNA AKTAŞ	ANKARA	68,421	78	68,016	61
MAHSUN AYHAN	ONLINE	68,752	62	67,294	103
EMİRHAN VURAL	ONLINE	68,734	65	66,506	159
İsminin paylaşılmamasını rica etti	İSTANBUL	68,686	67	67,804	73
ŞEYMA UYSALER	ZONGULDAK	68,354	82	67,916	67
TUĞÇE AYDEMİR	ADANA	68,667	69	66,406	167
NİHADE NUR KULAKSIZ	TRABZON	67,723	119	67,884	69
ALİ YAZICI	ORDU	68,520	76	67,860	70
TUBA KARASAL	KONYA	67,773	114	67,806	72
BAYRAM GÖĞ	İZMİR	68,602	73	66,917	129
MEHMET AL	ANKARA	68,486	77	67,505	90
SAFA ANIL ATALMIŞ	ADANA	68,419	79	66,795	136
SEMANUR TERZİ	İSTANBUL	68,221	89	67,716	79
MİNE ÜNSAL	ANKARA	67,590	130	67,684	80
ENSAR KAĞAN KURT	ONLINE	68,387	81	67,661	82
ALEYNANUR TAŞYÜREK	SAKARYA	68,353	83	67,305	101
ÖMER FARUK BAKI	ELAZIĞ	68,321	84	67,561	87
SABRİ MUSTAFA AYDIN	ONLINE	67,126	165	67,596	84
MELİSA TORUN	RİZE	67,922	107	67,572	85
SELİN CAN	İSTANBUL	67,922	107	67,572	85
EMİR İŞGÜN	SAMSUN	68,237	86	67,283	106
SELEN ESKİOÇAK	İSTANBUL	68,236	87	66,673	144
AYŞENUR DEMİR	ERZİNCAN	68,088	92	67,517	89
MUSTAFA ENES TAMTÜRK	ADANA	68,120	91	66,651	146
KEYSER TAHMAZ	İSTANBUL	67,972	104	67,495	91
OSMAN SEFA CENGİZ	İSPARTA	67,739	117	67,451	93
BURCU YILMAZ	İSTANBUL	68,021	97	66,806	134
GİZEM BAYDAR	ONLINE	67,042	170	67,318	99
FIRAT KARABULUT	ERZURUM	67,955	106	67,317	100

46. Otuz üç yaşındaki erkek hastanın 31 no'lu dişinin midbukkalinde diş eti çekilmesi miktarı 5 mm, gingival sulkus derinliği 3mm, vestibul derinliği ise 6 mm olarak ölçülüyor.

Bu dişte midbukkal klinik ataşman kaybı kaç mm'dir?

- A) 2 B) 4 C) 5 D) 6 E) 8

47. **2017 Periodontal Hastalık ve Durumların Sınıflandırılması Çalıştayı'nda diş eti çekilmelerinin sınıflandırılması için önerilen Cairo sınıflandırılması ile ilgili aşağıdakilerden hangisi yanlıştır?**

- A) Vestibul sulkus derinliği ve yapışık diş eti genişliği değerlendirilir.
B) İnterproksimal ataşman seviyesinin bukkal çekilme derinliği ile ilişkisi değerlendirilir.
C) İnterproksimal ataşman kaybı varlığı değerlendirilir.
D) Diş eti çekilmesinin cerrahi tedavi ile tam kapanma potansiyelini belirlemede kullanılabilir.
E) Çekilme derinliğinin mukogingival birleşim ile ilişkisi değerlendirilmez.

48. Sadece 24 ve 25 numaralı dişleri eksik olan bir hastada 2 adet standart çapta (4,0 mm) implant yerleştirilmesi planlanıyor.

Komşu dişler ve implantların çevresinde kemik rezorpsiyonu oluşmaması için bu hastada doğal dişler arasındaki dişsiz boşluğun mezio-distal uzunluğunun minimum kaç mm olması gerekir?

- A) 10 B) 12 C) 14 D) 16 E) 18

49. İki gün önce diş etinde başlayan ağrı ve şişlik şikâyetiyle başvuran 30 yaşındaki kadın hastanın ağız içi muayenesinde 13 numaralı dişin mezialinde şişlik görülüyor ve cep derinliği 2 mm olarak ölçülüyor. Radyografik incelemede kemik kaybı izlenmiyor.

Bu hasta için en olası tanı aşağıdakilerden hangisidir?

- A) Marjinal gingivitis
B) Majör aft
C) Nekrotizan gingivitis
D) Gingival apse
E) Periodontal apse

50. **Periodontal cerrahi işlemlerinde kullanılan insizyonlar ile ilgili aşağıdaki ifadelerden hangisi yanlıştır?**

- A) Papil bölgesinin korunması için vertikal insizyon papil tepesinden geçmemelidir.
B) Bukkalde dişin medianı vertikal insizyon için uygun alandır.
C) Mukogingival cerrahide, ilgili bölgenin hem distalinde hem de mezialinde vertikal insizyon içeren teknikler kullanılabilir.
D) Vertikal insizyonlar yapışık diş etinde sınırlı kalmamalı ve alveolar mukozaya uzanmalıdır.
E) Lingual bölgede vertikal insizyondan kaçınılmalıdır.

51. **Klinik ve radyolojik ortodontik muayenesinde dental yaşının 8 olduğu belirlenen, süt ve daimî dişleri için konjenital eksikliği olmayan 9 yaşındaki kız çocuğunun hangi daimî dişlerinin ağız içinde sürmüş olması en olasıdır?**

- A) Üst dental arkta 1-2-6, alt dental arkta 1-2-6
B) Üst dental arkta 1-2-3-6, alt dental arkta 1-2-6
C) Üst dental arkta 1-2-4-6, alt dental arkta 1-2-4-6
D) Üst dental arkta 1-2-5-6, alt dental arkta 1-2-4-6
E) Üst dental arkta 1-2-5-6, alt dental arkta 1-2-3-6

52. **Ortodontik tedavi sonunda kök paralelliğini değerlendirmede en az radyasyon dozu ile en uygun radyolojik görüntüleme yöntemi aşağıdakilerden hangisidir?**

- A) Posteroanterior sefalometrik radyografi
B) Lateral sefalometrik radyografi
C) Konik ışınli bilgisayarlı tomografi
D) Panoramik radyografi
E) Sintigrafi

53. **Eşit boyutlara ya da ankraj değerlerine sahip iki diş grubunda, aynı miktarda kuvvet dağılımına neden olan ankraj sistemi tanımlaması aşağıdakilerden hangisidir?**

- A) Resiprokal ankraj
B) Kuvvetlendirilmiş ankraj
C) Sabit ankraj
D) İskeletsel ankraj
E) Kortikal ankraj

54. I. Vidanın uzunluğu
II. Vidanın çapı
III. Vidanın formu

Yukarıdakilerden hangileri ortodontik mini vidaların stabilitesini etkileyen faktörlerdendir?

- A) Yalnız I B) I ve II
C) Yalnız II D) I, II ve III
E) I ve III

55. **Sabit ortodontik tedavi sonrasında braketlerin sökülmesinin ardından diş yüzeyindeki artık adezivlerin uzaklaştırılmasında tercih edilen aygıt aşağıdakilerden hangisidir?**

- A) Elmas frez
B) Tungsten karbid frez
C) Lazer uç
D) Ekskavatör
E) Braket sökücü pens

2025 DUS 2.DÖNEM



İlk 100'de ama üç büyük ilde olmayan kursiyerlerimizin sayısı

Adı Soyadı	Şube	Temel P	Temel S	Klinik P	Klinik S
M. Altuğ HARPUTCU	Düpedata kapadokya sivas	72,342	1	70,852	1
YUSUF CAN KORKMAZ	ADANA	71,695	2	70,642	3
SEHER ÇORUH	ADİYAMAN	70,796	7	85,000	25
ELİFNUR ÖZTÜRK	MALATYA	69,752	23	70,012	7
SAKİNE MALAK	KAYSERİ	70,017	21	69,801	11
ÖMER KARANFİLOĞLU	ADANA	70,543	14	66,325	179
YUNUS EREN	BURSA	70,083	20	69,290	15
ELİFNUR ÖZTÜRK	EDİRNE	70,381	16	68,823	31
NİHAT SELİM ASLAN	KAYSERİ	69,734	24	69,224	17
SALİM AKIN	DENİZLİ	70,182	19	69,134	19
ANIL DAĞLI	SAKARYA	69,767	22	68,968	26
BERKE ERSOY	AYDIN	68,920	51	69,070	22
AYŞE FEYZA KOYAK	KÜTAHYA	69,484	29	68,392	50
M. MUSTAFA METE	BURSA	69,468	30	68,825	30
MERVE SELİN DEMİR	ONLINE	69,451	31	68,647	38
M. FURKAN EVREN	ERZURUM	69,417	33	68,292	52
NUH GÜNEŞ	ERZURUM	69,401	34	68,725	34
HAFSA YANMAZ	ONLINE	68,256	85	68,682	35
ATAKAN AYDIN	ORDU	68,654	70	68,670	36
ILGAR GÜNDÜZ	EDİRNE	69,317	38	67,837	71
MUHAMMED ÇAĞRI ATEŞ	HATAY	69,133	41	67,104	113
RUKİYE ÖZTÜRK	GAZİANTEP	69,101	43	67,970	65
ŞEYDA CEREN YETGÜN	TRABZON	68,007	99	68,760	43
BATUHAN TÜRK	KAHRAMANMARAŞ	68,007	99	68,760	43
ŞEYMA EMREN KARAKUŞ	ONLINE	68,007	99	68,760	43
BEYZA YİĞİT	ONLINE	69,002	47	68,126	59
TUBA İLKAYA	GAZİANTEP	68,687	66	68,41	47
OSMAN TUTAN	DIYARBAKIR	67,641	127	68,217	55
YASİN ACAR	ONLINE	68,039	95	68,205	56
MEHMET EMİN YILMAZ	ANTALYA	67,458	140	68,095	60
ENES GÜNDÜZ	ORDU	68,686	67	67,804	73
ŞEYMA UYSALER	ZONGULDAK	68,354	82	67,916	67
TÜĞÇE AYDEMİR	ADANA	68,667	69	66,406	167
NİHADE NUR KULAKSIZ	TRABZON	67,723	119	67,884	69
ALİ YAZICI	ORDU	68,520	76	67,860	70
TUBA KARAŞAL	KONYA	67,773	114	67,806	72
SAFA ANIL ATALMIŞ	ADANA	68,419	79	66,795	136
BUSENUR KİLİMCİ	ELAZIĞ	67,590	130	67,684	80
ALEYHANUR TAŞYÜREK	SAKARYA	68,353	83	67,305	101
ÖMER FARUK BAKI	ELAZIĞ	68,321	84	67,561	87
SABRİ MUSTAFA AYDIN	ONLINE	67,126	165	67,596	84
MELİSA TORUN	RİZE	67,922	107	67,572	85
EMİR İŞGÜN	SAMSUN	68,237	86	67,283	106
AYŞENUR DEMİR	ERZİNCAN	68,088	92	67,517	89
MUSTAFA ENES TAMTÜRK	ADANA	68,120	91	66,651	146
OSMAN SEFA CENGİZ	ISPARTA	67,739	117	67,451	93
FIRAT KARABULUT	ERZURUM	67,955	106	67,317	100

2. Dönem 2025'de

47

kursiyerimiz
üç büyük ilde
değildi

56. Aşağıdakilerden hangisinin ortodontik tedavinin yan etkilerinden biri olması en az olasıdır?

- A) Tükürük pH düzeyinin değişmesi
- B) Alveolar kemik yüksekliğinin azalması
- C) Köklerde rezorpsiyon olması
- D) Dişlerde mobilite ve ağrı olması
- E) Beyaz nokta lezyonlarının oluşması

57. Pubertal atılımın başında olan Sınıf 2 Bölüm 1 anomaliye sahip hastanın; SNA açısı 85°, SNB açısı 75°, 1- SN açısı 118° ve IMPA açısı 101° olarak ölçülüyor. FMA açısı da 19° olarak belirleniyor.

Bu hastanın fonksiyonel apareyler ile tedavisinde aşağıdaki durumlardan hangisinin istenmeyen bir etki olarak ortaya çıkması en olasıdır?

- A) Mandibulanın öne büyümesinin hızlanması
- B) Alt yüz yüksekliğinin artması
- C) Mandibular keserlerde protrüzyon
- D) Maksiller keserlerde retrüzyon
- E) Maksillanın öne büyümesinin yavaşlaması

58. On iki yaşındaki erkek çocuk, alt ve üst keser dişleri arasında açıklık olması şikâyetiyle kliniğe getiriliyor. Hastanın sefalometrik değerlendirmesinde SNA 82°, SNB 78°, SNGoGn 39° ve Gonyal açısı (ArGoGn) 142° olarak bulunuyor.

Bu hasta için en uygun tedavi yaklaşımı aşağıdakilerden hangisidir?

- A) Yüz maskesi
- B) Oksipital headgear ve anterior bite blok
- C) Oksipital çenelik ve hızlı maksiller genişletme
- D) Oksipital headgear ve Sınıf II aktivatörü
- E) Vertikal çenelik ve posterior bite blok

59. Aşağıdakilerden hangisi iskeletsel Sınıf 3 maloklüzyonda büyüme modifikasyonu için tercih edilen apareylerden birisi değildir?

- A) Herbst
- B) Frankel-III
- C) Chincup
- D) Yüz maskesi
- E) Kemik destekli yüz maskesi

60. I. Nasion-A noktası (NA) düzlemi
II. Sella-Nasion (SN) düzlemi
III. Frankfort düzlemi
IV. Palatal düzlem

Yukarıdakilerden hangileri Sassouni analizinde kullanılan düzlemlerdir?

- A) Yalnız III
- B) III ve IV
- C) I ve IV
- D) II, III ve IV
- E) I ve III

61. Aşağıdakilerden hangisi apikal periodontitise neden olan dış etkilere bağlı (ekzojen) faktörlerden biri değildir?

- A) Kolesterol kristalleri
- B) Mekanik irritasyon
- C) Travma
- D) Kimyasal ajanlar
- E) Bakteri ve toksinleri

62. Mandibular molar dişlerin distolingualinde yer alan ekstra köke ne ad verilir?

- A) Radix entomolaris
- B) Radix paramolaris
- C) Dens evaginatus
- D) Dens invaginatus
- E) Radix distoangularis

63. Kırk yaşındaki erkek hasta 12 no'lu dişinde lokalize ağrı ve dişte uzama hissi şikâyetiyle kliniğe başvuruyor. Yapılan klinik muayenede, ilgili dişte derin bir çürük ve şiddetli perküsyon hassasiyeti, alınan periapikal radyografda da hafifçe genişlemiş periodontal ligament aralığı gözleniyor. Diş vitalite testlerine yanıt vermiyor.

İlgili dişin semptomları dikkate alındığında bu hasta için en olası tanı aşağıdakilerden hangisidir?

- A) Semptomatik irreversible pulpitis
- B) Semptomatik apikal periodontitis
- C) Asemptomatik apikal periodontitis
- D) Reversible pulpitis
- E) Kronik apikal apse

Klinisyen
Tüm TUS Soruları

2. Epicondylus medialis kırıklarında hasara uğrayan sinir aşağıdakilerden hangisidir? (İlkbahar 2013)
(DUS'ta sorulmaya uygun)

A) Nervus medianus
B) Nervus ulnaris
C) Nervus axillaris
D) Nervus cutaneus bra
E) Nervus radialis

DUS için uygun olanlar işaretlendi!

Doğru cevap: B

Humerus kırıklarında hangi nöral yapıların yaralandığını sorgulayan bir sorudur.

Epicondylus medialis kırıklarında hasara uğrayan sinir nervus ulnaris'tir.

Temel Bilimler

Detaylı bilgi ve satın almak için:
www.klinisyen.com

64. Aşağıdakilerden hangisi kök kanalı içerisinde kırılan aletlerin yönetimini ve dişin prognozunu etkileyen faktörlerden değildir?

- A) Aletin boyutu
- B) Aletin kanal içindeki pozisyonu
- C) Kırılma zamanı
- D) Aletin kırılma tipi
- E) Pulpal ve periapikal dokunun durumu

65. Etilediamin tetraasetik asit ile ilgili aşağıdaki ifadelerden hangisi yanlıştır?

- A) Zayıf bir şelasyon ajanıdır.
- B) Dört adet asetik asit fonksiyonel grubunun etilen diamine bağlı olduğu moleküler yapısı vardır.
- C) Uzun süreli temasta peritübüler ve intratübüler dentin erozyon ve demineralizasyonuna neden olduğu bildirilmektedir.
- D) Kök kanal şekillendirilmesi esnasında jel formu lubrikasyon sağlar.
- E) Çok dar bir kök kanalında kök kanal şekillendirmesi esnasında eğenin kanalda ilerlemesine yardımcı olabilir.

66. Yaşlı bireylerde endodontik açıdan meydana gelebilecek değişimlerle ilgili aşağıdaki ifadelerden hangisi yanlıştır?

- A) Apikal foramen, genç bir bireye göre daha koronalde konumlanır.
- B) Dentin kalınlığı artar.
- C) Pulpada kollajen fiberlerin kalınlığı ve sayısı artar.
- D) Dentin permeabilitesi azalır.
- E) Pulpada ateroskleroz meydana gelir.

67. I. Hücreden zengin tabaka
II. Odontoblast tabakası
III. Hücreden fakir tabaka
IV. Pulpanın merkez tabakası

Pulpa-dentin kompleksinde yer alan tabakaların dentinden pulpaya doğru sıralaması aşağıdakilerden hangisinde verilmiştir?

- A) I, II, III, IV
- B) I, III, IV, II
- C) II, I, III, IV
- D) II, III, I, IV
- E) I, IV, III, II

68. I. Bupivakain
II. Artikain
III. Lidokain

İki saatten fazla süren pulpal anestezi sağlanması için yukarıdakilerden hangileri tercih edilir?

- A) Yalnız I
- B) Yalnız III
- C) I ve II
- D) I ve III
- E) I, II ve III

69. Kök kanalının temizleme ve şekillendirme tekniğine bakılmaksızın kök kanalında debriz birikimini engellemek için küçük eğelerin çalışma boyunda kullanılması aşağıdakilerden hangisine karşılık gelmektedir?

- A) Resiprokasyon
- B) Saat kurma hareketi
- C) Rotasyon
- D) Apikal patensi
- E) Rekapitülasyon

70. Aşağıdaki diş gruplarından hangisinde antikurvatur eğeleme tekniği kullanımı endikedir?

- A) Kalsifiye alt 1. premolar
- B) Açık apeksli üst santral kesici
- C) Düz kök yapısına sahip üst kanin
- D) Kök kanal yenilenmesi gereken üst 1. molar
- E) Sodyum hipoklorit taşan üst 1. premolar

71. Auriküler ve oküler defektler, zigomatik ve mandibular hipoplazi, yarı damak-dudak, velofaringeal yetersizlik ve dar faringeal havayolu ve servikal vertebraların füzyonu semptomlarıyla karakterize sendrom aşağıdakilerden hangisidir?

- A) Goldenhar sendromu
- B) Kabuki sendromu
- C) Prader-Willi sendromu
- D) Down sendromu
- E) Hunter sendromu



2025 DUS 2. Dönem

DUSDATA DERECELERİ

İlk 10'da 10 kişi , DUSDATA ile kazandı



8

Dt. Ayşegül Nigar AKÇAL
Temel: 70.697 Klinik 69.755
Hacettepe Üniversitesi Diş Hekimliği Fakültesi

72. Üst çenede çift taraflı süt birinci ve ikinci molarların erken kaybının görüldüğü ve birinci daimî molar dişlerin sürdüğü 8 yaşındaki çocuk hastada aşağıdaki yer tutucu tiplerinden hangisi **en uygundur?**

- A) Lingual ark
- B) Nance apareyi
- C) Band loop
- D) Kron loop
- E) Distal shoe

73. Sistemik olarak sağlıklı 12 yaşındaki kız çocukta her iki üst premolar dişlerinin minesinin diğer dişlere oranla daha ince olduğu ve yüzeyinde pitler bulunduğu gözleniyor.

Dental ve sistemik olarak başka hiçbir sorunu olmayan bu çocukta ilgili dişlerdeki en olası dental anomali aşağıdakilerden hangisidir?

- A) Hipoplazi
- B) Hipomineralizasyon
- C) Hipokalsifikasyon
- D) Hipomatürasyon
- E) Dentin displazisi

74. I. Rubber dam izolasyonu yapılması
II. Polimerizasyon sonrası yüzeyin rulo pamuk ile silinmesi
III. Polimerizasyon sonrası yüzeyin 30 saniye yıkanması

Yukarıdakilerden hangileri çocuk hastalarda kullanılan rezin bazlı materyallerden salınan Bisfenol A maruziyetini azaltmak amacıyla alınması gereken önlemlerdendir?

- A) Yalnız I
- B) I ve II
- C) I ve III
- D) II ve III
- E) I, II ve III

75. Kök ucu açık genç daimî dişlerde uygulanan rejeneratif endodontik tedavi ile ilgili aşağıdaki ifadelerden hangisi **yanlıştır?**

- A) Histopatolojik olarak diş içerisinde gelişen doku çoğunlukla sement-kemik benzeri, fibröz bağ dokudan oluşur.
- B) Kök ucunun uzamadan kapanmasını sağlayarak kök ucunu kalınlaştırır.
- C) Kanalda büyüme faktörlerinin kaynaklarından birisi dentin dokusudur.
- D) Kök hücreleri apikal bölgeden dişin içine doğru, pıhtı ile oluşturulan yapı iskelesine göç eder.
- E) Tedavide kanal enstrümantasyonu minimal düzeyde yapılmalıdır.

76. Tükettiği içme suyundaki florür konsantrasyonun 0,2 ppm olduğu bilinen ve yüksek çürük risk grubunda olduğu tespit edilen 2 yaşındaki bir çocuğa günlük kaç mg sistemik florür takviyesi yapılması **en uygundur?**

- A) Gerek yoktur.
- B) 0,25 mg
- C) 0,50 mg
- D) 0,75 mg
- E) 1 mg

77. Aşağıdakilerden hangisinin çocuk hastalarda uygulanan lokal anestezi sonrasında görülebilecek sistemik komplikasyonlardan biri olması **en olasıdır?**

- A) Hematom
- B) Trismus
- C) Yanakta anemik saha
- D) Dudak ve yanak ısırma
- E) Ürtiker

78. Klinik şartlarda dental tedavi için kooperasyon sağlanamayan, sistemik olarak sağlıklı 6 yaşındaki çocuk hastanın tedavilerinin sedasyon altında yapılmasına karar veriliyor. IV midazolam uygulaması ile yapılan sedasyon prosedürü sırasında çocukta respiratuvar sistemi etkileyen doz aşımı bulguları saptanıyor.

Bu hastadaki acil durumun yönetilmesi için aşağıdakilerden hangisinin antagonist ilaç olarak uygulanması en uygundur?

- A) Nalokson
- B) Flumazenil
- C) Fentanil
- D) Meperidin
- E) Kloral hidrat

79. Üç yaşındaki çocuk kliniğe ev içi düşme sonucu dişinin yerinden çıkması nedeniyle travmadan 15 dakika sonra süt içine yerleştirilmiş avülse dişle birlikte getiriliyor. Sistemik olarak sağlıklı ve normal büyüme-gelişimi olan hastanın yapılan intraoral muayenesinde sağ üst santral kesici dişinin yerinde olmadığı belirleniyor.

Bu çocukta ilgili diş için aşağıdaki tedavi yaklaşımlarından hangisi en uygundur?

- A) Diş replante edilerek 2 hafta süreyle rijit bir splintle stabilize edilmelidir.
- B) Diş replante edilerek 4 hafta süreyle rijit bir splintle stabilize edilmelidir.
- C) Diş replante edilerek 4 hafta süreyle pasif ve esnek bir splintle stabilize edilmelidir.
- D) Diş replante edilerek 2 hafta süreyle pasif ve esnek bir splintle stabilize edilmelidir.
- E) Diş replante edilmemelidir.

80. Uzun süreli başparmak emme alışkanlığı olan 5 yaşındaki bir çocukta parmak emmeye bağlı olarak aşağıdaki bulgulardan hangisinin görülmesi **en az olasıdır?**

- A) Overjet miktarında artış
- B) Ön açık kapanış
- C) Alt kesici dişlerin linguale inklinasyonu
- D) Sınıf III maloklüzyon
- E) Arka çapraz kapanış



Sadece fakülte derecelerine mi derece yapıyoruz?

*Ayinesi iştir kişinin,
lafa bakılmaz*

İlk 100'de ama
fakülte **DERECE'si olmayan**
kursiyer sayımız

İlk 100'de ama
üç Büyük İl'de **olmayan**
kursiyer sayımız



2025 2.Dönem
sınavında

82
kursiyerimiz

48
kursiyerimiz

*Bu sınavda ilk 100'de 88 kursiyerimiz vardı.



2025 1.Dönem
sınavında

80
kursiyerimiz

39
kursiyerimiz

*Bu sınavda ilk 100'de 83 kursiyerimiz vardı.



2024 2.Dönem
sınavında

78
kursiyerimiz

37
kursiyerimiz

*Bu sınavda ilk 100'de 82 kursiyerimiz vardı.



2024 1.Dönem
sınavında

84
kursiyerimiz

38
kursiyerimiz

*Bu sınavda ilk 100'de 86 kursiyerimiz vardı.



İsim isim detayları görmek için
www.dusdata.com'u ziyaret ediniz.

Detaylı bilgi için: www.dusdata.com adresini takip ediniz.

TEMEL BİLİMLER CEVAP ANAHTARI

1. A	21. B
2. E	22. C
3. A	23. D
4. C	24. B
5. A	25. E
6. B	26. D
7. D	27. C
8. B	28. A
9. C	29. C
10. E	30. B
11. A	31. E
12. E	32. A
13. D	33. C
14. D	34. D
15. B	35. A
16. A	36. C
17. C	37. D
18. E	38. E
19. D	39. C
20. B	40. B

KLİNİK BİLİMLER CEVAP ANAHTARI

41. E	61. A	81. E	101. A
42. A	62. D	82. C	102. A
43. B	63. B	83. D	103. B
44. D	64. E	84. C	104. D
45. C	65. C	85. B	105. A
46. D	66. D	86. E	106. E
47. C	67. B	87. A	107. D
48. E	68. C	88. C	108. A
49. C	69. E	89. D	109. E
50. A	70. B	90. B	110. D
51. C	71. A	91. A	111. A
52. E	72. D	92. D	112. B
53. B	73. D	93. A	113. A
54. C	74. B	94. D	114. E
55. E	75. C	95. B	115. B
56. A	76. B	96. A	116. B
57. A	77. E	97. C	117. E
58. E	78. C	98. E	118. B
59. D	79. B	99. A	119. E
60. B	80. C	100. D	120. D

2025 DUS 2. DÖNEM

-İL BİRİNCİLERİMİZ-

29
İL BİRİNCİSİ



Türkiye'ye fırsat eşitliğini getirdik...

İlk 100'de pek çok ilden (Ordu, Rize, Erzurum, Samsun, Hatay, Kocaeli, Elazığ..) kursiyerimiz var.



TÜM DUS SORULARI

Artık Mobil'de

"Tamamen bizim kalemimizden"

Tüm yılların sorularını **konu konu** çöz

Tüm yılların sorularını **sınav sınav** çöz

Tüm yılların sorularını **sınav sınav deneme formatında** çöz

Tüm yılların sorularının **video çözümlerini seyret**

DUS'a uygun TUS sorularını çöz



Tüm Dus Sorularını
Satın almak için;
www.tusdataonline.com





“Ayinesi İştir Kişinin, Lafa Bakılmaz”