

- Q 1. A partir de quel délai de non consolidation parle-t-on de pseudarthrose au membre inférieur : réponse juste
- A. 3 mois
  - B. 6 mois
  - C. 9mois
  - D. 12 mois
  - E. 1 mois
- Q 2. Quelle est (sont) la (les) réponse(s) juste(s) concernant le cal vicieux :
- A. c'est une consolidation osseuse en position non-anatomique
  - B. peut-être secondaire à un déplacement secondaire de la fracture
  - C. est toujours bien toléré
  - D. chez l'enfant il se corrige avec la croissance
  - E. il peut nécessiter une chirurgie de réaxation
- Q 3. Le diagnostic d'une fracture de la diaphyse humérale compliquée d'une paralysie du nerf radial comporte :
- A. Une anesthésie de la pulpe du 5<sup>ème</sup> doigt.
  - B. Une attitude en main tombante.
  - C. Impossibilité de faire la flexion du pouce.
  - D. Anesthésie de la face dorsale de la première commissure de la main.
  - E. Impossibilité d'écartement et de rapprochement des doigts.
- Q 4. Les fractures de la tête radiale de types 3 selon MASON sont :
- A. Des fractures simples déplacées.
  - B. Des fractures comminutives.
  - C. Des fractures simples non déplacées.
  - D. Des fractures de la tête radiale associées à une luxation du coude.
  - E. Des fractures de la tête radiale associées à une fracture de l'olécrane.
- Q 5. Les complications des fractures de la tête radiale sont :
- A. Nécrose de la tête radiale.
  - B. Pseudarthrose.
  - C. Raideur de la prono-supination.
  - D. Paralysie du nerf ulnaire.
  - E. Arthrose.
- Q 6. Le traitement d'une luxation postérieure du coude :
- A. Doit se faire en urgence et sous anesthésie générale.
  - B. Est exclusivement chirurgical.
  - C. Par une simple écharpe après réduction orthopédique.
  - D. On pratique souvent une réparation ligamentaire par suture.
  - E. Réduction orthopédique par manœuvre externe et immobilisation plâtrée par BABP.

Q 7. L'examen clinique d'une fracture de l'épicondyle médial de la palette humérale compliquée d'une paralysie du nerf ulnaire (cubital) retrouve :

- A. Un déficit de l'extension du poignet et des doigts.
- B. Une anesthésie de la pulpe de l'index.
- C. Un déficit de l'écartement et rapprochement des doigts.
- D. Une anesthésie de la face dorsale de la 1<sup>ère</sup> commissure de la main.
- E. Une anesthésie de la pulpe de l'auriculaire.

Q 8. Parmi les complications des fractures des deux os de l'avant-bras, laquelle est la plus fréquente ? (cochez la réponse juste)

- A. la lésion du nerf médian
- B. la lésion du nerf cubital
- C. la raideur de la pronosupination
- D. le syndrome de VOLKMANN
- E. la synostose radio-ulnaire

Q 9. Par rapport au traitement orthopédique, le traitement chirurgical à foyer ouvert d'une fracture de jambe, a les inconvénients suivants :

- A. Nécessité de contrôles radiographiques répétés
- B. Consolidation retardée
- C. Risque de raideur
- D. Risque infectieux
- E. Risque thromboembolique

Q 10. la fracture de l'extrémité inférieure du radius est : (cochez la ou les réponses justes)

- A. survient le plus souvent chez le sujet jeune suite à un traumatisme violent
- B. la moins fréquente des fractures de l'appareil locomoteur
- C. peut perturber les rapports de l'articulation radio-cubitale
- D. survient le plus souvent suite à un mécanisme indirect
- E. traitement est toujours chirurgical

Q 11. La fracture du scaphoïde carpien est (Cocher les réponses justes)


- A. la fracture la plus rare des fractures du carpe
- B. survient suite à un traumatisme direct
- C. le traitement est toujours chirurgical
- D. les fractures proximales peuvent évoluer vers l'ostéonécrose
- E. la vascularisation du scaphoïde est à artère unique rétrograde

Q 12. La fracture bimalléolaire par adduction est : (Cocher la ou les réponses justes)

- A. la fracture bimalléolaire la plus fréquente
- B. d- survient suite à un mécanisme en éversion
- C. le trait sur la malléole interne est vertical
- D. pas de lésion de la syndesmose
- E. le trait sur le péroné est sus tuberculaire

Q 13. Dans les fractures bimalléolaires (cocher la ou les réponses justes) :

- A. le mécanisme est le plus souvent indirect
- B. le trait sur la malléole externe dépend de la position du pied lors du traumatisme
- C. les troubles trophiques compliquent la prise en charge
- D. le traitement orthopédique est une botte plâtre de 3 mois
- E. elles ne se compliquent jamais d'arthrose de la cheville



- Q 14. Le diagnostic de luxation de hanche dans sa variété postérieure haute iliaque (Cochez la réponse juste)
- A. le membre inférieur et abduction rotation interne hanche en extension
  - B. le membre inférieur adduction rotation externe hanche en flexion
  - C. le membre inférieur en adduction rotation interne hanche en extension
  - D. le membre inférieur en abduction rotation externe hanche en flexion
  - E. le membre inférieur en adduction rotation interne hanche en flexion

- Q 15. Dans la classification de Garden ; la fracture de type I est une (Cochez-la ou les réponses justes)
- A. Fracture du col impactée en valgus.
  - B. Fracture dont les travées céphaliques sont verticarisées par rapport à celles du col fémoral.
  - C. Fracture du col fémoral complètement déplacée ; la tête fémorale est tout à fait séparée du col.
  - D. Fracture du col fémoral déplacée en varus
  - E. Les travées céphaliques sont horizontalisées par rapport à celles du col fémoral.

- Q 16. La région trochantérienne présente :
- A. Une corticale épaisse.
  - B. Une vascularisation type terminale.
  - C. Un risque important de nécrose de la tête fémorale.
  - D. Une corticale fine.
  - E. Une corticale entourant un os spongieux bien vascularisé.

- Q 17. Une femme de 50 ans est traitée par réduction et plâtre cruropédieux pour fracture diaphysaire fermée des deux os de la jambe, quelles sont au dixième jour après le plâtre les deux complications les plus fréquentes :
- A. Epanchement intra-articulaire du genou
  - B. Phlébite sous plâtre
  - C. Suppuration du foyer de fracture
  - D. Ouverture secondaire du foyer de fracture
  - E. Déplacement secondaire sous plâtre


- Q 18. La classification de SALTER et HARRIS des décollements épiphysaires est la suivante : (Cochez la ou les réponses justes)
- A. Type 1 : décollement épiphysaire avec trait métaphysaire
  - B. Type 2 : décollement épiphysaire avec trait épiphysaire
  - C. Type 3 : décollement épiphysaire pur
  - D. Type 4 : décollement épiphysaire à trait métaphyso-épiphysaire
  - E. Type 5 : écrasement du cartilage de croissance

- Q 19. En cas de décollement épiphysaire, dans quel(s) cas la plaque conjugale est intacte ? (Cochez la ou les réponses justes)
- A. Type 1 de SALTER et HARRIS
  - B. Type 2 de SALTER et HARRIS
  - C. Type 3 de SALTER et HARRIS
  - D. Type 4 de SALTER et HARRIS
  - E. Type 5 de SALTER et HARRIS

- Q 20. Quels sont les facteurs étiopathogéniques d'une luxation congénitale de la hanche ? (Cochez la ou les réponses justes) :
- A. Toutes les positions de siège
  - B. L'antéversion fémorale
  - C. Gémellité
  - D. Appui direct sur le grand trochanter
  - E. Le langage en quille

Q 21. La durée de traitement d'une hanche luxée réductible chez le bébé de moins de 4 mois (en cas de maladie luxante de la hanche) est de : (cochez la réponse juste)

- A. 3 mois à plein temps
- B. 4 mois à plein temps
- C. 3 mois à plein temps et 2 à 3 mois en nocturne
- D. 4 mois à plein temps et 2 à 3 mois en nocturne
- E. 5 mois à plein temps et 1 à 2 mois en nocturne



Q 22. Parmi les propositions suivantes concernant la scoliose idiopathique (cochez la ou les réponses justes)

- A. Elle est due à une malformation vertébrale.
- B. Elle est due à une compensation physiologique d'une inégalité de longueur des membres inférieurs.
- C. Elle s'accompagne d'une discontinuité ostéoligamentaire
- D. C'est une déviation sinueuse dans les trois plans de l'espace
- E. Son diagnostic clinique repose sur la mise en évidence d'une gibbosité à l'examen penché en avant.

Q 23. Le bilan radiologique de la scoliose comporte :

- A. Radiographie du rachis total de face et profil
- B. Radiographie des deux genoux de face
- C. Radiographie du bassin de face
- D. Radiographie du coude ou de la main
- E. Radiographie du pied gauche de profil

Q 24. Le traitement des infections ostéo-articulaires comprend ; cochez les réponses justes.

- A. Hospitalisation et conditionnement.
- B. Bi-antibiothérapie par voie veineuse ; d'abord probabiliste puis en fonction de Antibiogramme.
- C. Immobilisation plâtre.
- D. En cas d'épanchement intra-articulaire ; la ponction articulaire n'est pas nécessaire.
- E. Ponction métaphysaire ou bien drainage chirurgicale en cas d'abcès sous périoste.

Q 25. L'EPIPHYSIOLYSE fémoral se déclare : Cochez la ou les réponses justes :

- A. Avant l'âge de 10 ans
- B. Par une boiterie d'esquive
- C. Par boiterie par plongeon
- D. Par boiterie par rééquilibration
- E. Le déplacement est le plus souvent progressif

Q 26. Le traitement du pied bot varus équin congénital fait appel au : (cochez la ou les réponses justes)

- A. Traitement chirurgical
- B. Traitement médical
- C. Méthode fonctionnelle
- D. Méthode de Ponseti
- E. Toutes les propositions sont justes

Q 27. Parmi les propositions ci-dessous, quelles sont les tumeurs considérées comme malignes : (Cochez les réponses justes)

- A. Le chondroblastome
- B. Le fibrosarcome
- C. La tumeur d'Ewing
- D. Ostéome ostéoïde
- E. Ostéoblastome



Q 28. Quels signes radiographiques parmi les suivants pouvez-vous retrouver dans les spondylarthrites ?

- A. Une déminéralisation osseuse mouchetée
- B. Une érosion du rebord antérieur et antérolatéral des corps vertébraux
- C. Une spondylodiscite d'Andersson
- D. Un pincement coxofémoral
- E. Une érosion calcanéenne avec ébauche d'apposition périostée

Q 29. Le tableau clinique du SDRC 1 (Algodystrophie) se caractérise par :

- A. Une douleur régionale continue, spontanée ou provoquée, de faible intensité et de courte durée
- B. Une douleur correspondant à un territoire nerveux périphérique radiaire
- C. Peut être associé à des signes cliniques moteurs, sensitifs, sudomoteurs, vasomoteurs et trophiques
- D. Une douleur qui paraît disproportionnée par rapport à l'évolution attendue de l'événement déclenchant
- E. Une arthrite qui peut durer quelques semaines à 6 mois

Q 30. Concernant la clinique d'un syndrome douloureux régional complexe (Algodystrophie)

- A. Il associe classiquement une phase froide puis chaude
- B. Il associe classiquement une phase chaude puis tiède puis froide
- C. La phase chaude s'étale jusqu'à la guérison qui peut être longue
- D. L'évolution peut être prolongée 12 à 24 mois
- E. La phase froide se manifeste par des troubles trophiques et des rétractions

Q 31. Au cours d'une arthrite goutteuse aiguë, l'exploration biologique peut retrouver :

- A. Une uricémie normale
- B. Un syndrome inflammatoire biologique
- C. Des hémocultures positives
- D. Un liquide synovial très inflammatoire sans germes à l'examen direct ni à la culture
- E. La présence obligatoire de cristaux de pyrophosphate de calcium

Q 32. La goutte primaire idiopathique est caractérisée par :


- A. Son association fréquente aux éléments du syndrome métabolique
- B. Sa relation avec des déficits enzymatiques fréquents
- C. Une prédominance de l'atteinte féminine
- D. Des antécédents de goutte familiale dans 30-40% des cas
- E. Une évolution obligatoirement bénigne

Q 33. Parmi les facteurs suivants ; lesquels peuvent être incriminés dans l'apparition de l'ostéoporose :

- A. L'obésité.
- B. L'hypothyroïdie.
- C. L'hystérectomie.
- D. L'intoxication tabagique
- E. La ménopause précoce.

Q 34. L'atteinte articulaire de la polyarthrite rhumatoïde débutante est souvent :

- A. Distale
- B. Fugace
- C. Migratrice
- D. Symétrique
- E. Déformante



- Q 35. Le DAS 28 comprend :
- A. Le nombre d'articulation douloureuse
  - B. Le nombre d'articulations gonflées
  - C. L'EVA globale patient
  - D. Le taux de CRP
  - E. Le taux de FR
- Q 36. Au cours d'une arthrite septique à pyogènes quel(s) est/ sont les éléments en faveur d'une dissémination par voie hémotogène ?
- A. Existence d'un foyer infectieux à distance de l'articulation
  - B. Un terrain d'immunodépression
  - C. Réalisation d'un geste intra- articulaire
  - D. Existence d'une lésion cutanée en regard de l'articulation
  - E. Traumatisme articulaire
- Q 37. Le diagnostic de certitude d'une arthrite septique à germe banal repose sur la mise en évidence du germe dans :
- A. Le liquide céphalo-rachidien
  - B. Le liquide pleural
  - C. Le liquide synovial
  - D. La culture d'une biopsie synoviale
  - E. Les hémocultures
- Q 38. Au cours d'une coxarthrose primitive, on peut retrouver :
- A. Une douleur mécanique projetée au genou homolatéral
  - B. Une démarche dandinante
  - C. Une limitation précoce de la flexion de hanche
  - D. Une réduction progressive du périmètre de marche
  - E. Une amyotrophie du jambier antérieur
- Q 39. Une sciatique commune par hernie discale se manifeste par :
- A. Début brutal après effort
  - B. Douleur irradiant au creux inguinal
  - C. Douleur de type mécanique
  - D. Impulsivité aux éternuements
  - E. Dérouillage matinal supérieur à une heure
- Q 40. En cas de conflit disco-radulaire type S1, on peut retrouver :
- A. Douleur de la fesse irradiant à la face antéro-externe de la cuisse et du mollet
  - B. Lasègue à 10°
  - C. Attitude antalgique en inflexion latérale
  - D. Altération de l'état général avec fièvre et anorexie
  - E. Douleur de la fesse irradiant à la face postérieure de la cuisse et du mollet
- Q 41. Le Palm up test explore :
- A. Muscle supra-épineux
  - B. Muscle subscapulaire
  - C. Chef long du muscle biceps brachial
  - D. Muscle infra-épineux
  - E. Muscle petit rond

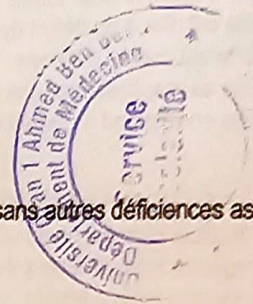
- Q 42. Parmi les propositions suivantes concernant la boiterie d'esquive (Cochez la ou les réponses justes)
- A. Elle s'observe pour toutes les douleurs du membre inférieur
  - B. Elle est due à un déficit du muscle moyen fessier (glutéal moyen) du côté de l'appui
  - C. Elle est due à l'évitement de l'appui du côté douloureux
  - D. Elle se manifeste par une augmentation du temps d'appui unipodal du côté douloureux
  - E. Elle correspond à une élévation homolatérale du bassin, et une abduction de la hanche
- Q 43. La cause principale de la boiterie de Trendelenburg correspond à une insuffisance fonctionnelle du :
- A. muscle quadriceps du côté de l'appui.
  - B. muscle tibial antérieur du côté de l'appui.
  - C. muscle moyen fessier (glutéal moyen) du côté controlatéral de l'appui.
  - D. muscle moyen fessier (glutéal moyen) du côté de l'appui.
  - E. muscle grand fessier du côté de l'appui.
- Q 44. La prescription d'appareillage : Cochez la réponse fausse
- A. Fait partie des moyens de rééducation
  - B. Comporte des dispositifs de suppléance extra corporelle
  - C. Permet le remplacement d'un membre par une orthèse
  - D. Peut servir à immobiliser un membre
  - E. Rend plus fonctionnel un membre
- Q 45. Les facteurs favorisant à l'apparition des escarres sont :
- A. Trouble de la sensibilité.
  - B. Bonne hydratation.
  - C. hyperprotidémie
  - D. vieillesse.
  - E. vascularite.
- Q 46. La prévention de l'escarre, se fait par :
- A. Héparinothérapie à bas poids moléculaire.
  - B. Retournements, toutes les 2h à 3h.
  - C. Eviter la macération.
  - D. Décharger les zones d'appui, en cas de menace d'escarre.
  - E. La mise en place des bas de contention.
- Q 47. Un moignon est dit de bonne qualité si : cochez la ou les réponses justes :
- A. Il est de forme cylindro-conique
  - B. La Cicatrice est antérieure
  - C. La cicatrice est postéro-médiane
  - D. Il est trop court
  - E. A la palpation, on note la présence d'exostose
- Q 48. La prise en charge des atteintes articulaires dégénératives ou inflammatoires en Médecine Physique et de Réadaptation est basée sur :
- A. la récupération de la fonction et de la restauration intégrale de l'anatomie,
  - B. la précocité du traitement rééducatif,
  - C. la lutte contre la douleur, l'amyotrophie, les raideurs et les déformations,
  - D. l'évaluation des déficiences, des limitations d'activité, des restrictions de participation,
  - E. l'évaluation des facteurs environnementaux et facteurs personnels.

Q 49. La rééducation d'un patient qui présente un rhumatisme en poussée inflammatoire se base sur :

- A. la décharge de l'articulation malade,
- B. la confection des orthèses de repos,
- C. la physiothérapie antalgique par le chaud,
- D. le renforcement musculaire actif
- E. la mobilisation douce.

Q 50. Le travail du schéma (ou programme) moteur d'une activité gestuelle, sans autres déficiences associées, se fait par le moyen suivant (une seule réponse juste) :

- A. Gain d'amplitude articulaire
- B. Renforcement musculaire
- C. La physiothérapie
- D. Rééducation sensori-motrice
- E. Immobilisation par attelle



	A	B	C	D	E
Q1	<input type="checkbox"/>	<input checked="" type="checkbox"/>	<input type="checkbox"/>	<input type="checkbox"/>	<input type="checkbox"/>
Q2	<input checked="" type="checkbox"/>	<input checked="" type="checkbox"/>	<input type="checkbox"/>	<input checked="" type="checkbox"/>	<input checked="" type="checkbox"/>
Q3	<input type="checkbox"/>	<input checked="" type="checkbox"/>	<input type="checkbox"/>	<input checked="" type="checkbox"/>	<input type="checkbox"/>
Q4	<input type="checkbox"/>	<input checked="" type="checkbox"/>	<input type="checkbox"/>	<input type="checkbox"/>	<input type="checkbox"/>
Q5	<input checked="" type="checkbox"/>	<input type="checkbox"/>	<input checked="" type="checkbox"/>	<input type="checkbox"/>	<input checked="" type="checkbox"/>
Q6	<input checked="" type="checkbox"/>	<input type="checkbox"/>	<input type="checkbox"/>	<input type="checkbox"/>	<input checked="" type="checkbox"/>
Q7	<input type="checkbox"/>	<input type="checkbox"/>	<input checked="" type="checkbox"/>	<input type="checkbox"/>	<input checked="" type="checkbox"/>
Q8	<input type="checkbox"/>	<input type="checkbox"/>	<input checked="" type="checkbox"/>	<input type="checkbox"/>	<input type="checkbox"/>
Q9	<input type="checkbox"/>	<input checked="" type="checkbox"/>	<input type="checkbox"/>	<input checked="" type="checkbox"/>	<input type="checkbox"/>
Q10	<input type="checkbox"/>	<input type="checkbox"/>	<input checked="" type="checkbox"/>	<input checked="" type="checkbox"/>	<input type="checkbox"/>
Q11	<input type="checkbox"/>	<input type="checkbox"/>	<input type="checkbox"/>	<input checked="" type="checkbox"/>	<input checked="" type="checkbox"/>
Q12	<input type="checkbox"/>	<input type="checkbox"/>	<input checked="" type="checkbox"/>	<input checked="" type="checkbox"/>	<input type="checkbox"/>
Q13	<input checked="" type="checkbox"/>	<input checked="" type="checkbox"/>	<input checked="" type="checkbox"/>	<input type="checkbox"/>	<input type="checkbox"/>
Q14	<input type="checkbox"/>	<input type="checkbox"/>	<input checked="" type="checkbox"/>	<input type="checkbox"/>	<input type="checkbox"/>
Q15	<input checked="" type="checkbox"/>	<input checked="" type="checkbox"/>	<input type="checkbox"/>	<input type="checkbox"/>	<input type="checkbox"/>
Q16	<input type="checkbox"/>	<input type="checkbox"/>	<input type="checkbox"/>	<input checked="" type="checkbox"/>	<input checked="" type="checkbox"/>
Q17	<input type="checkbox"/>	<input checked="" type="checkbox"/>	<input type="checkbox"/>	<input type="checkbox"/>	<input checked="" type="checkbox"/>
Q18	<input type="checkbox"/>	<input type="checkbox"/>	<input type="checkbox"/>	<input checked="" type="checkbox"/>	<input checked="" type="checkbox"/>
Q19	<input checked="" type="checkbox"/>	<input checked="" type="checkbox"/>	<input type="checkbox"/>	<input type="checkbox"/>	<input type="checkbox"/>
Q20	<input type="checkbox"/>	<input type="checkbox"/>	<input checked="" type="checkbox"/>	<input checked="" type="checkbox"/>	<input checked="" type="checkbox"/>
Q21	<input type="checkbox"/>	<input type="checkbox"/>	<input type="checkbox"/>	<input checked="" type="checkbox"/>	<input type="checkbox"/>
Q22	<input type="checkbox"/>	<input type="checkbox"/>	<input type="checkbox"/>	<input checked="" type="checkbox"/>	<input checked="" type="checkbox"/>
Q23	<input checked="" type="checkbox"/>	<input type="checkbox"/>	<input checked="" type="checkbox"/>	<input checked="" type="checkbox"/>	<input type="checkbox"/>
Q24	<input checked="" type="checkbox"/>	<input checked="" type="checkbox"/>	<input checked="" type="checkbox"/>	<input type="checkbox"/>	<input checked="" type="checkbox"/>
Q25	<input type="checkbox"/>	<input checked="" type="checkbox"/>	<input type="checkbox"/>	<input type="checkbox"/>	<input checked="" type="checkbox"/>

	A	B	C	D	E
Q26	<input checked="" type="checkbox"/>	<input type="checkbox"/>	<input checked="" type="checkbox"/>	<input checked="" type="checkbox"/>	<input type="checkbox"/>
Q27	<input type="checkbox"/>	<input checked="" type="checkbox"/>	<input checked="" type="checkbox"/>	<input type="checkbox"/>	<input type="checkbox"/>
Q28	<input type="checkbox"/>	<input checked="" type="checkbox"/>	<input checked="" type="checkbox"/>	<input checked="" type="checkbox"/>	<input checked="" type="checkbox"/>
Q29	<input type="checkbox"/>	<input type="checkbox"/>	<input checked="" type="checkbox"/>	<input checked="" type="checkbox"/>	<input type="checkbox"/>
Q30	<input type="checkbox"/>	<input type="checkbox"/>	<input type="checkbox"/>	<input checked="" type="checkbox"/>	<input checked="" type="checkbox"/>
Q31	<input checked="" type="checkbox"/>	<input checked="" type="checkbox"/>	<input type="checkbox"/>	<input checked="" type="checkbox"/>	<input type="checkbox"/>
Q32	<input checked="" type="checkbox"/>	<input type="checkbox"/>	<input type="checkbox"/>	<input checked="" type="checkbox"/>	<input type="checkbox"/>
Q33	<input type="checkbox"/>	<input type="checkbox"/>	<input checked="" type="checkbox"/>	<input checked="" type="checkbox"/>	<input checked="" type="checkbox"/>
Q34	<input checked="" type="checkbox"/>	<input type="checkbox"/>	<input type="checkbox"/>	<input checked="" type="checkbox"/>	<input type="checkbox"/>
Q35	<input checked="" type="checkbox"/>	<input checked="" type="checkbox"/>	<input checked="" type="checkbox"/>	<input checked="" type="checkbox"/>	<input type="checkbox"/>
Q36	<input checked="" type="checkbox"/>	<input checked="" type="checkbox"/>	<input type="checkbox"/>	<input type="checkbox"/>	<input type="checkbox"/>
Q37	<input type="checkbox"/>	<input type="checkbox"/>	<input checked="" type="checkbox"/>	<input checked="" type="checkbox"/>	<input checked="" type="checkbox"/>
Q38	<input checked="" type="checkbox"/>	<input type="checkbox"/>	<input type="checkbox"/>	<input checked="" type="checkbox"/>	<input type="checkbox"/>
Q39	<input checked="" type="checkbox"/>	<input type="checkbox"/>	<input checked="" type="checkbox"/>	<input checked="" type="checkbox"/>	<input type="checkbox"/>
Q40	<input type="checkbox"/>	<input checked="" type="checkbox"/>	<input checked="" type="checkbox"/>	<input type="checkbox"/>	<input checked="" type="checkbox"/>
Q41	<input type="checkbox"/>	<input type="checkbox"/>	<input checked="" type="checkbox"/>	<input type="checkbox"/>	<input type="checkbox"/>
Q42	<input checked="" type="checkbox"/>	<input type="checkbox"/>	<input checked="" type="checkbox"/>	<input type="checkbox"/>	<input type="checkbox"/>
Q43	<input type="checkbox"/>	<input type="checkbox"/>	<input type="checkbox"/>	<input checked="" type="checkbox"/>	<input type="checkbox"/>
Q44	<input type="checkbox"/>	<input type="checkbox"/>	<input checked="" type="checkbox"/>	<input type="checkbox"/>	<input type="checkbox"/>
Q45	<input checked="" type="checkbox"/>	<input type="checkbox"/>	<input type="checkbox"/>	<input checked="" type="checkbox"/>	<input checked="" type="checkbox"/>
Q46	<input type="checkbox"/>	<input checked="" type="checkbox"/>	<input checked="" type="checkbox"/>	<input checked="" type="checkbox"/>	<input type="checkbox"/>
Q47	<input checked="" type="checkbox"/>	<input type="checkbox"/>	<input checked="" type="checkbox"/>	<input type="checkbox"/>	<input type="checkbox"/>
Q48	<input type="checkbox"/>	<input checked="" type="checkbox"/>	<input checked="" type="checkbox"/>	<input checked="" type="checkbox"/>	<input checked="" type="checkbox"/>
Q49	<input checked="" type="checkbox"/>	<input checked="" type="checkbox"/>	<input type="checkbox"/>	<input type="checkbox"/>	<input checked="" type="checkbox"/>
Q50	<input type="checkbox"/>	<input type="checkbox"/>	<input type="checkbox"/>	<input checked="" type="checkbox"/>	<input type="checkbox"/>